

**RAPGFGCK-2021 – D1AG**

<b>SUBJECT</b>	<b>SUBJECT CODE</b>	<b>TIMINGS</b>
<b>COMPULSORY PAPER – III (GENERAL KNOWLEDGE)</b>	<b>29</b>	<b>2.30 PM to 4.30 PM (2 Hours)</b>

<b>TOTAL DURATION</b>	<b>Total No. of Questions</b>	<b>MAXIMUM TIME FOR ANSWERING</b>
<b>150 Minutes</b>	<b>50</b>	<b>120 Minutes</b>

<b>MENTION YOUR REGISTER NUMBER</b>					<b>QUESTION BOOKLET SERIAL NUMBER</b>	
					<b>XXXXXX</b>	

**DOs :**

1. This question booklet is issued to you by the invigilator **after 2.25 pm**.
2. Check whether the Register Number has been entered and shaded in the respective circles on the OMR Answer Sheet.
3. Please check that OMR Answer Sheet Serial No. and Question Booklet Serial No. match with each other. If they do not match immediately replace the Question Booklet and OMR Answer Sheet.
4. The Serial Number of this question booklet should be entered on the OMR Answer Sheet and the respective circles should also be shaded completely.
5. Compulsorily sign at the bottom portion of the OMR Answer Sheet in the space provided.

**DONTs :**

1. **THE TIMING AND MARKS PRINTED ON THE OMR ANSWER SHEET SHOULD NOT BE DAMAGED / MUTILATED / SPOILED.**
2. The **3<sup>rd</sup> Bells rings at 2.30 pm, till then;**
  - Do not remove the seal present on the right hand side of this question booklet.
  - Do not; look inside this question booklet or start answering on the OMR Answer Sheet.

**IMPORTANT INSTRUCTIONS TO CANDIDATES**

1. In case of usage of signs and symbols in the questions, the regular textbook connotation should be considered unless stated otherwise.
2. This question booklet contains **50** questions and each question will have one statement and four different options / responses & out of which you have to choose one correct answer.
3. After the **3<sup>rd</sup> Bell rings at 2.30 pm**, remove the paper seal of this question booklet and check that this booklet does not have any unprinted or torn or missing pages or items etc., if so, get it replaced by a complete test booklet. Read each item and start answering on the OMR Answer Sheet.
4. Completely **darken / shade** the relevant circle with a **blue or black ink ballpoint pen against the question number on the OMR answer sheet.**

<b>ಸರಿಯಾದ ಕ್ರಮ</b> <b>CORRECT METHOD</b>	<b>ತಪ್ಪು ಕ್ರಮಗಳು WRONG METHODS</b>

5. Please note that even a minute unintended ink dot on the OMR Answer Sheet will also be recognized and recorded by the scanner. Therefore, avoid multiple markings of any kind on the OMR Answer Sheet.
6. Use the space provided on the pages of the question booklet for Rough Work. Do not use the OMR Answer Sheet for the same.
7. **Last bell will ring at 4.30 pm**, stop writing on the OMR Answer Sheet.
8. Hand over the **OMR Answer Sheet** to the room invigilator as it is.
9. After separating the top sheet (Office copy), the invigilator will return the bottom sheet replica (Candidate's copy) to you.

**NOTE: In case of any discrepancy between English and Kannada versions, the English version will be taken as final.**

SPACE FOR ROUGH WORK

1. Match the List-I with List-II.

List-I	List-II
a. Mosaic	i. Search Engine
b. ARPANET	ii. USA
c. CERN	iii. Web Browser
d. Web Crawler	iv. Switzerland

Codes :

(A) a-iii; b-i; c-iv; d-ii

(B) a-i; b-ii; c-iii; d-iv

(C) a- i; b-ii; c-iv; d-iii

(D) a-iii; b-ii; c-iv; d-i

Question Id : 1

1. ಪಟ್ಟಿ I ಅನ್ನು ಪಟ್ಟಿ II ರೊಂದಿಗೆ ಹೊಂದಿಸಿ ಬರೆಯಿರಿ :

ಪಟ್ಟಿ - I	ಪಟ್ಟಿ - II
a. ಮೊಸೈಕ್	i. ಸರ್ಚ್ ಇಂಜಿನ್
b. ಅರ್ಪನೆಟ್	ii. ಯು.ಎಸ್.ಎ
c. CERN	iii. ವೆಬ್ ಬ್ರೌಸರ್
d. ವೆಬ್ ಕ್ರಾಲರ್	iv. ಸ್ವಿಟ್ಜರ್ಲ್ಯಾಂಡ್

ಸಂಕೇತಗಳು :

(A) a-iii; b-i; c-iv; d-ii

(B) a-i; b-ii; c-iii; d-iv

(C) a- i; b-ii; c-iv; d-iii

(D) a-iii; b-ii; c-iv; d-i

Question Id : 1

2. Recently in Mandya, reserves of the following mineral were found :

(A) Uranium

(B) Thorium

(C) Lithium

(D) Magnesium

Question Id : 2

2. ಇತ್ತೀಚೆಗೆ ಮಂಡ್ಯದಲ್ಲಿ ಕೆಳಗೆ ನೀಡಲಾದ ಖನಿಜ ನಿಕ್ಷೇಪಗಳಲ್ಲಿ ಯಾವುದು ದೊರೆತಿದೆ ?

(A) ಯುರೇನಿಯಮ್

(B) ಥೋರಿಯಮ್

(C) ಲೀಥಿಯಮ್

(D) ಮ್ಯಾಗ್ನೀಷಿಯಮ್

Question Id : 2

3. Match the List-I with List-II.

- | <b>List-I</b>      | <b>List-II</b>      |
|--------------------|---------------------|
| a. Crypto Currency | i. Satoshi Nakamoto |
| b. Metaverse       | ii. Larry Page      |
| c. Google          | iii. Evan Williams  |
| d. Twitter         | iv. Mark Zuckerberg |

Codes :

(A) a- i; b-iv; c-ii; d-iii

(C) a-iii; b-ii; c-i; d-iv

(B) a- ii; b-iii; c-iv; d-i

(D) a- iv; b-i; c-iii; d-ii

Question Id : 3

3. ಪಟ್ಟಿ I ಅನ್ನು ಪಟ್ಟಿ II ರೊಂದಿಗೆ ಹೊಂದಿಸಿ ಬರೆಯಿರಿ :

- | <b>ಪಟ್ಟಿ - I</b>    | <b>ಪಟ್ಟಿ - II</b>      |
|---------------------|------------------------|
| a. ಕ್ರಿಪ್ಟೋ ಕರೆನ್ಸಿ | i. ಸತೋಷಿ ನಕಾಮೊಟೋ       |
| b. ಮೆಟಾವರ್ಸ್        | ii. ಲ್ಯಾರಿ ಪೇಜ್        |
| c. ಗೂಗಲ್            | iii. ಇವಾನ್ ವಿಲಿಯಮ್ಸ್   |
| d. ಟ್ವಿಟರ್          | iv. ಮಾರ್ಕ್ ಜುಕೆರ್ಬರ್ಗ್ |

ಸಂಕೇತಗಳು :

(A) a- i; b-iv; c-ii; d-iii

(C) a-iii; b-ii; c-i; d-iv

(B) a- ii; b-iii; c-iv; d-i

(D) a- iv; b-i; c-iii; d-ii

Question Id : 3

4. Match the List-I with List-II.

- | <b>List-I</b>    | <b>List-II</b>        |
|------------------|-----------------------|
| a. Edward Jenner | i. Polio Vaccine      |
| b. Max Theiler   | ii. Small Pox Vaccine |
| c. Louis Pasteur | iii. Rabies Vaccine   |
| d. Jonas Salk    | iv. Yellow Fever      |

Codes :

(A) a- ii; b-iv; c-iii; d-i

(C) a-i; b-iii; c-iv; d-ii

(B) a- iv; b-i; c-iii; d-ii

(D) a- iii; b-ii; c-iv; d-i

Question Id : 4

4. ಪಟ್ಟಿ I ಅನ್ನು ಪಟ್ಟಿ II ರೊಂದಿಗೆ ಹೊಂದಿಸಿ ಬರೆಯಿರಿ :

- | <b>ಪಟ್ಟಿ - I</b>    | <b>ಪಟ್ಟಿ - II</b>       |
|---------------------|-------------------------|
| a. ಎಡ್ವರ್ಡ್ ಜೆನ್ನರ್ | i. ಪೊಲಿಯೋ ಲಸಿಕೆ         |
| b. ಮ್ಯಾಕ್ಸ್ ಥೈಲರ್   | ii. ಸ್ಮಾಲ್ ಪಾಕ್ಸ್ ಲಸಿಕೆ |
| c. ಲ್ಯೂಯಿಸ್ ಪಾಸ್ಟರ್ | iii. ರೇಬಿಸ್ ಲಸಿಕೆ       |
| d. ಜೊನಾಸ್ ಸಾಕ್      | iv. ಯೆಲ್ಲೋ ಜ್ವರ         |

ಸಂಕೇತಗಳು :

(A) a- ii; b-iv; c-iii; d-i

(C) a-i; b-iii; c-iv; d-ii

(B) a- iv; b-i; c-iii; d-ii

(D) a- iii; b-ii; c-iv; d-i

Question Id : 4

5. Match the List-I with List-II.

**List-I**

- a. First tethered walk in space
- b. First space fatality
- c. First landing on Moon
- d. First space tourist

**List-II**

- i. Vladimir Komorov
- ii. Dennis Tito
- iii. Alexai Lenov
- iv. Luna 2

**Codes :**

(A) a- ii; b-iv; c-i; d-iii

(B) a- ii; b-iv; c-iii; d-i

(C) a-i; b-iii; c-iv; d-ii

(D) a- iii; b-i; c-iv; d-ii

Question Id : 5

5. ಪಟ್ಟಿ I ಅನ್ನು ಪಟ್ಟಿ II ರೊಂದಿಗೆ ಹೊಂದಿಸಿ ಬರೆಯಿರಿ :

**ಪಟ್ಟಿ - I**

- a. ಬಾಹ್ಯಾಕಾಶದಲ್ಲಿ ಮೊದಲನೇ ಬಾರಿಗೆ
- b. ಮೊದಲನೇ ಬಾಹ್ಯಾಕಾಶದ ಸಾವು
- c. ಮೊದಲನೇ ಬಾರಿಗೆ ಚಂದ್ರನಲ್ಲಿ ಇಳಿದಿದ್ದು
- d. ಮೊದಲನೆಯ ಬಾಹ್ಯಾಕಾಶ ಯಾತ್ರಿಕ

**ಪಟ್ಟಿ - II**

- i. ವ್ಲಾಡಿಮಿರ್ ಕೊಮೊರೋವ್ ಸಂಪರ್ಕ ಉಳಿಸಿಕೊಂಡು ನಡೆದಿರುವುದು
- ii. ಡೆನ್ನೀಸ್ ಟಿಟೋ
- iii. ಅಲೆಕ್ಸೈ ಲಿನೋವ್
- iv. ಲೂನಾ 2

**ಸಂಕೇತಗಳು :**

(A) a- ii; b-iv; c-i; d-iii

(B) a- ii; b-iv; c-iii; d-i

(C) a-i; b-iii; c-iv; d-ii

(D) a- iii; b-i; c-iv; d-ii

Question Id : 5

6. Arrange the following Industrial group in the descending order of their output in Karnataka :

- a. Manufacture of Motor vehicles, trailers and semi-trailers.
- b. Manufacture of Food Products.
- c. Manufacture of Basic Metals.
- d. Manufacture of Coke and Refined Petroleum Products.

**Codes :**

(A) b, c, d, a

(B) c, d, a, b

(C) d, a, b, c

(D) a, b, c, d

Question Id : 6

6. ಈ ಕೆಳಗೆ ನೀಡಲಾದ ಕರ್ನಾಟಕದಲ್ಲಿರುವ ಕಾರ್ಖಾನೆಯ ಗುಂಪುಗಳನ್ನು ಅದರ ಉತ್ಪತ್ತಿಯ ಆಧಾರದ ಮೇಲೆ ಇಳಿಮುಖವಾಗಿ ಜೋಡಿಸಿ.

- a. ಮೋಟಾರು ಗಾಡಿಗಳ ತಯಾರಿಕೆ, ಟ್ರೈಲರ್‌ಗಳು ಮತ್ತು ಸೆಮಿ ಟ್ರೈಲರ್‌ಗಳು
- b. ಆಹಾರ ಉತ್ಪನ್ನಗಳ ತಯಾರಿಕೆ
- c. ಮೂಲ ಲೋಹಗಳ ತಯಾರಿಕೆ
- d. ಕೋಕ್ ಮತ್ತು ಸಂಸ್ಕರಿಸಿದ ಪೆಟ್ರೋಲಿಯಂ ಉತ್ಪನ್ನಗಳು

**ಸಂಕೇತಗಳು :**

(A) b, c, d, a

(B) c, d, a, b

(C) d, a, b, c

(D) a, b, c, d

Question Id : 6

7. Match the List-I with List-II.

List-I	List-II
a. Francis Crick	i. X-ray crystallography
b. Max Van Laue	ii. Father of Modern Genetics
c. Gregor Mendel	iii. Nucleic acid
d. Albrecht Kassel	iv. 'Central dogma'

**Codes :**

(A) a- i; b-iv; c-iii; d-ii

(B) a-ii; b-iii; c-iv; d-i

(C) a-iii; b-ii; c-i; d-iv

(D) a-iv; b-i; c-ii; d-iii

Question Id : 7

7. ಪಟ್ಟಿ I ಅನ್ನು ಪಟ್ಟಿ II ರೊಂದಿಗೆ ಹೊಂದಿಸಿ ಬರೆಯಿರಿ :

ಪಟ್ಟಿ - I	ಪಟ್ಟಿ - II
a. ಫ್ರಾನ್ಸಿಸ್ ಕ್ರಿಕ್	i. ಎಕ್ಸ್‌ರೇ ಕ್ರಿಸ್ಟಲೋಗ್ರಫಿ
b. ಮ್ಯಾಕ್ಸ್ ವ್ಯಾನ್ ಲಾವೆ	ii. ಆಧುನಿಕ ಅನುವಂಶಿಕತೆ ಶಾಸ್ತ್ರದ ಪಿತಾಮಹ
c. ಗ್ರೆಗೋರ್ ಮೆಂಡಲ್	iii. ನ್ಯೂಕ್ಲಿಯಿಕ್ ಆಮ್ಲ
d. ಆಲ್ಬ್ರೆಕ್ಟ್ ಕ್ಯಾಸೆಲ್	iv. ಸೆಂಟ್ರಲ್ ಡಾಗ್ಮಾ

**ಸಂಕೇತಗಳು :**

(A) a- i; b-iv; c-iii; d-ii

(B) a-ii; b-iii; c-iv; d-i

(C) a-iii; b-ii; c-i; d-iv

(D) a-iv; b-i; c-ii; d-iii

Question Id : 7

8. Total fertility rate in Karnataka in 2020 is

(A) 1.7

(B) 2.1

(C) 2.4

(D) 1.4

Question Id : 8

8. ಕರ್ನಾಟಕದಲ್ಲಿ 2020ರಲ್ಲಿ ಒಟ್ಟು ಫಲವತ್ತತೆಯ ದರ

(A) 1.7

(B) 2.1

(C) 2.4

(D) 1.4

Question Id : 8

9. Match the List-I with List-II.

**List-I**

- a. Largest seabird
- b. Tallest bird
- c. Fastest bird
- d. Flightless bird

**List-II**

- i. Falcon
- ii. Emu
- iii. Albatross
- iv. Ostrich

**Codes :**

- (A) a-iii; b-iv; c-i; d-i
- (C) a-ii; b-iv; c-iii; d-i

- (B) a-iv; b-iii; c-ii; d-i
- (D) a-i; b-ii; c-iv; d-iii

Question Id : 9

9. ಪಟ್ಟಿ I ಅನ್ನು ಪಟ್ಟಿ II ರೊಂದಿಗೆ ಹೊಂದಿಸಿ ಬರೆಯಿರಿ :

**ಪಟ್ಟಿ - I**

- a. ದೊಡ್ಡದಾದ ಸಮುದ್ರ ಪಕ್ಷಿ
- b. ಅತಿ ಎತ್ತರದ ಪಕ್ಷಿ
- c. ಅತಿವೇಗದ ಪಕ್ಷಿ
- d. ಹಾರಲಾರದ ಪಕ್ಷಿ

**ಪಟ್ಟಿ - II**

- i. ಫಾಲ್ಕನ್
- ii. ಎಮು
- iii. ಅಲ್ಬಟ್ರಾಸ್
- iv. ಆಸ್ಟ್ರಿಚ್‌ಸಂ

**ಸಂಕೇತಗಳು :**

- (A) a- iii; b-iv; c-i; d-ii
- (C) a-ii; b-iv; c-iii; d-i

- (B) a-iv; b-iii; c-ii; d-i
- (D) a-i; b-ii; c-iv; d-iii

Question Id : 9

10. Match the List-I with List-II.

**List-I**

- a. Gokula Grama
- b. Jawaharlal Nehru Centre for Advanced Scientific Research
- c. Agribiotech Park
- d. Defence Research Development Organisation

**List-II**

- i. Bengaluru
- ii. Dharwad
- iii. Chitradurga
- iv. Chickmagalur

**Codes :**

- (A) a- iii; b-iv; c-ii; d-i
- (C) a-ii; b-i; c-iv; d-iii

- (B) a-iv; b-i; c-ii; d-iii
- (D) a- i; b-ii; c-iv; d-iii

Question Id : 10

10. ಪಟ್ಟಿ I ಅನ್ನು ಪಟ್ಟಿ II ರೊಂದಿಗೆ ಹೊಂದಿಸಿ ಬರೆಯಿರಿ :

**ಪಟ್ಟಿ - I**

- a. ಗೋಕುಲ ಗ್ರಾಮ
- b. ಜವಹರಲಾಲ್ ನೆಹರು ಆಧುನಿಕ
- c. ಆಗ್ರಿಬಯೋಟೆಕ್ ಪಾರ್ಕ್
- d. ಡಿಫೆನ್ಸ್ ರಿಸರ್ಚ್ ಡೆವಲಪ್‌ಮೆಂಟ್ ಆರ್ಗನೈಸೇಷನ್

**ಪಟ್ಟಿ - II**

- i. ಬೆಂಗಳೂರು
- ii. ಧಾರವಾಡ ವೈಜ್ಞಾನಿಕ ಸಂಶೋಧನಾ ಕೇಂದ್ರ
- iii. ಚಿತ್ರದುರ್ಗ
- iv. ಚಿಕ್ಕಮಗಳೂರು

- (A) a-iii; b-iv; c-ii; d-i
- (C) a-ii; b-i; c-iv; d-iii

- (B) a-iv; b-i; c-ii; d-iii
- (D) a-i; b-ii; c-iv; d-iii

Question Id : 10

11. Match the List-I with List-II.

List-I	List-II
a. Vitamin B1	i. Niacin
b. Vitamin B2	ii. Riboflavin
c. Vitamin B6	iii. Ascorbic Acid
d. Vitamin C	iv. Thiamine

**Codes :**

(A) a-i; b-ii; c-iv; d-iii

(B) a-ii; b-iv; c-iii; d-i

(C) a-ii; b-iv; c-i; d-iii

(D) a-iv; b-ii; c-i, d-iii

Question Id : 11

11. ಪಟ್ಟಿ I ಅನ್ನು ಪಟ್ಟಿ II ರೊಂದಿಗೆ ಹೊಂದಿಸಿ ಬರೆಯಿರಿ :

ಪಟ್ಟಿ - I	ಪಟ್ಟಿ - II
a. ವಿಟಮಿನ್ ಬಿ1	i. ನಿಯಾಸಿನ್
b. ವಿಟಮಿನ್ ಬಿ2	ii. ರೈಬೋಫ್ಲೇವಿನ್
c. ವಿಟಮಿನ್ ಬಿ6	iii. ಆಸ್ಕಾರ್ಬಿಕ್ ಆಮ್ಲ
d. ವಿಟಮಿನ್ ಸಿ	iv. ಥಿಯಾಮಿನ್

**ಸಂಕೇತಗಳು :**

(A) a-i; b-ii; c-iv; d-iii

(B) a-ii; b-iv; c-iii; d-i

(C) a-ii; b-iv; c-i; d-iii

(D) a-iv; b-ii; c-i, d-iii

Question Id : 11

12. Consider the following statements :

- Japas, a French teacher started modern Olympics in 1859.
- King Theodosius of Rome put ban on Olympics in 394 AD.
- In ancient Greece, Winner of a game in Olympics used to be given a branch of fig tree.

**Codes :**

(A) a, b and c are true.

(B) Only a is true.

(C) Only b is true.

(D) Only c is true.

Question Id : 12

12. ಕೆಳಗೆ ನೀಡಲಾದ ಹೇಳಿಕೆಗಳನ್ನು ಪರಿಗಣಿಸಿ :

- ಜಪಾಸ್ ಎಂಬ ಫ್ರೆಂಚ್ ಶಿಕ್ಷಕ ಆಧುನಿಕ ಓಲಿಂಪಿಕ್ಸ್ ಅನ್ನು 1859ರಲ್ಲಿ ಪ್ರಾರಂಭಿಸಿದರು.
- ರೋಮ್‌ನ ರಾಜ ಥಿಯೋಡೋಸಿಯಸ್ ಓಲಿಂಪಿಕ್ಸ್ ಅನ್ನು 394 ಎ.ಡಿ. ಯಲ್ಲಿ ನಿರ್ಬಂಧಿಸಿದನು.
- ಪುರಾತನ ಗ್ರೀಸ್‌ನಲ್ಲಿ, ಓಲಿಂಪಿಕ್ ಆಟವನ್ನು ಗೆದ್ದವರಿಗೆ ಫಿಗ್ ಮರದ ರಂಭೆಯನ್ನು ಕೊಡುತ್ತಿದ್ದರು.

**ಸಂಕೇತಗಳು :**

(A) a, b ಮತ್ತು c ಸರಿ

(B) a ಮಾತ್ರ ಸರಿ

(C) b ಮಾತ್ರ ಸರಿ

(D) c ಮಾತ್ರ ಸರಿ

Question Id : 12



13. Consider the following statements:

- a. The first talkie was 'The Jazz Singer'.
- b. The first musical film was 'Don Juan'.

- (A) Both a and b are true.
- (C) a is true, but b is false.

- (B) Both a and b are false.
- (D) a is false, but b is true.

Question Id : 13

13. ಕೆಳಗೆ ನೀಡಿದ ಹೇಳಿಕೆಗಳನ್ನು ಪರಿಗಣಿಸಿ :

- a. ಮೊದಲನೆಯ ವಾಕ್ ಚಿತ್ರವು 'ದಿ ಜಾರ್ಜ್ ಸಿಂಗರ್'
- b. ಮೊದಲನೆಯ ಸಂಗೀತ ಚಿತ್ರವು 'ಡಾನ್ ಜುವಾನ್'

- (A) a ಮತ್ತು b ಎರಡೂ ಸರಿ
- (C) a ಸರಿ ಆದರೆ b ತಪ್ಪು

- (B) a ಮತ್ತು b ಎರಡೂ ತಪ್ಪು
- (D) a ತಪ್ಪು ಆದರೆ b ಸರಿ

Question Id : 13

14. Out of the seven wonders of the Ancient world, which of the following are still preserved ?

- a. Pyramids of Egypt
- b. Temple of Diana
- c. Light house of Pharos

- (A) All a, b and c
- (C) Only b

- (B) Only a
- (D) Both a and c

Question Id : 14

14. ಪ್ರಾಚೀನ ಜಗತ್ತಿನ ಏಳು ಅದ್ಭುತಗಳಲ್ಲಿ, ಕೆಳಗೆ ನೀಡಲಾದವುಗಳಲ್ಲಿ ಯಾವುದನ್ನು ಇನ್ನು ಉಳಿಸಿಕೊಳ್ಳಲಾಗಿದೆ ?

- a. ಪಿರಮಿಡ್ಸ್ ಆಫ್ ಈಜಿಪ್ಟ್
- b. ಡಯಾನ ದೇವಾಲಯ
- c. ಲೈಟ್ ಹೌಸ್ ಆಫ್ ಫೆರೋಸ್

- (A) a, b ಮತ್ತು c ಎಲ್ಲವೂ
- (C) b ಮಾತ್ರ

- (B) a ಮಾತ್ರ
- (D) a ಮತ್ತು c ಎರಡೂ

Question Id : 14

15. Arrange the following in the ascending order from the Earth's surface :

- a. Exosphere
- b. Ionosphere
- c. Stratosphere
- d. Mesosphere

- (A) a, b, c, d
- (C) d, b, c, a

- (B) c, d, b, a
- (D) b, c, a, d

Question Id : 15

15. ಭೂಮಿಯ ಮೇಲ್ಮೈಯಿಂದ ಏರಿಕೆ ಕ್ರಮದಲ್ಲಿ ಕೆಳಗೆ ನೀಡಲಾದವುಗಳನ್ನು ಜೋಡಿಸಿ :

- a. ಎಕ್ಸೋಸ್ಪಿಯರ್
- b. ಅಯೋಸ್ಪಿಯರ್
- c. ಸ್ಟ್ರಾಟೋಸ್ಪಿಯರ್
- d. ಮೆಸೋಸ್ಪಿಯರ್

- (A) a, b, c, d
- (C) d, b, c, a

- (B) c, d, b, a
- (D) b, c, a, d

Question Id : 15

16. Arrange the following lakes in the descending order of salinity :
- Urmia
  - Salton
  - Chilka
  - Vanda
- (A) a, b, c, d (B) c, d, b, a  
(C) d, a, b, c (D) b, a, d, c

Question Id : 16

16. ಕೆಳಗೆ ನೀಡಲಾದ ಕೊಳಗಳನ್ನು ಉಪ್ಪಿನ ಅಂಶದ ಇಳಿಕೆ ಕ್ರಮದಲ್ಲಿ ಜೋಡಿಸಿ.
- ಉರ್ಮಿಯ
  - ಸಾಲ್ಟನ್
  - ಚಿಲಿಕ
  - ವಾಂಡ
- (A) a, b, c, d (B) c, d, b, a  
(C) d, a, b, c (D) b, a, d, c

Question Id : 16

17. The Calendar/s used widely now is
- Julian Calendar
  - Christian Calendar
  - Eon Calendar
  - Gregorian Calendar
- (A) Both a and b (B) Only d  
(C) Only c (D) None of these

Question Id : 17

17. ಕೆಳಗಿನವುಗಳಲ್ಲಿ ಯಾವ ಕ್ಯಾಲೆಂಡರ್/ಗಳನ್ನು ಹೆಚ್ಚಾಗಿ ಬಳಸುತ್ತಾರೆ ?
- ಜುಲಿಯನ್ ಕ್ಯಾಲೆಂಡರ್
  - ಕ್ರಿಶ್ಚಿಯನ್ ಕ್ಯಾಲೆಂಡರ್
  - ಇಯಾನ್ ಕ್ಯಾಲೆಂಡರ್
  - ಗ್ರೆಗೋರಿಯನ್ ಕ್ಯಾಲೆಂಡರ್
- (A) a ಮತ್ತು b ಎರಡೂ (B) d ಮಾತ್ರ  
(C) c ಮಾತ್ರ (D) ಇವುಗಳಲ್ಲಿ ಯಾವುದೂ ಅಲ್ಲ

Question Id : 17

18. 100 Acres of land is allotted to Sanskrit University in the following district :
- (A) Ramanagara (B) Mysore  
(C) Vijayanagara (D) Dharwad

Question Id : 18

18. ಸಂಸ್ಕೃತ ವಿಶ್ವವಿದ್ಯಾನಿಲಯಕ್ಕೆ ಈ ಜಿಲ್ಲೆಯಲ್ಲಿ ನೂರು ಎಕರೆ ಜಮೀನು ನೀಡಲಾಗಿದೆ.
- (A) ರಾಮನಗರ (B) ಮೈಸೂರು  
(C) ವಿಜಯನಗರ (D) ಧಾರವಾಡ

Question Id : 18

19. Consider the following statements :

a. Tashkent Agreement was signed between India and Russia.

b. Simla Agreement was signed between India and Pakistan.

(A) Both a and b are true.

(B) Both a and b are false.

(C) Only a is correct.

(D) Only b is correct.

Question Id : 19

19. ಕೆಳಗೆ ನೀಡಲಾದ ಹೇಳಿಕೆಗಳನ್ನು ಪರಿಗಣಿಸಿ :

a. ತಾಷ್ಕೆಂಟ್ ಒಪ್ಪಂದಕ್ಕೆ ರಷ್ಯಾ ಮತ್ತು ಭಾರತ ದೇಶಗಳು ಸಹಿ ಹಾಕಿವೆ.

b. ಸಿಮ್ಲಾ ಒಪ್ಪಂದಕ್ಕೆ ಭಾರತ ಮತ್ತು ಪಾಕಿಸ್ತಾನ ದೇಶಗಳು ಸಹಿ ಹಾಕಿವೆ.

(A) a ಮತ್ತು b ಎರಡೂ ಸರಿ

(B) a ಮತ್ತು b ಎರಡೂ ತಪ್ಪು

(C) a ಮಾತ್ರ ಸರಿ

(D) b ಮಾತ್ರ ಸರಿ

Question Id : 19

20. Consider the following statements :

a. Vaikom Satyagraha was initiated by T.K. Madhavan.

b. Bhoodan Movement was initiated by Vinoba Bhave.

(A) Both a and b are true.

(B) Both a and b are false.

(C) a is true, but b is false.

(D) a is false, but b is true.

Question Id : 20

20. ಕೆಳಗೆ ನೀಡಲಾದ ಹೇಳಿಕೆಗಳನ್ನು ಪರಿಗಣಿಸಿ :

a. ವೈಕೋಮ್ ಸತ್ಯಾಗ್ರಹವನ್ನು ಟಿ.ಕೆ. ಮಾಧವನ್ ಅವರು ಪ್ರಾರಂಭಿಸಿದರು

b. ವಿನೋಬಾ ಭಾವೆ ಅವರು ಭೂದಾನ ಚಳುವಳಿಯನ್ನು ಪ್ರಾರಂಭಿಸಿದರು

(A) a ಮತ್ತು b ಎರಡೂ ಸರಿ

(B) a ಮತ್ತು b ಎರಡೂ ತಪ್ಪು

(C) a ಸರಿ ಆದರೆ b ತಪ್ಪು

(D) a ತಪ್ಪು ಆದರೆ b ಸರಿ

Question Id : 20

21. Prakash draws a square each side of which is 1 cm. He then draws another square around it, so that each side of the second square is 1 cm from the corresponding parallel side of the first one. He now draws another square surrounding the second and with its sides 1 cm away from the second one. He continues with this process until the total perimeter of the squares drawn is 144 cm. What is the area of the largest square ?

(A) 144 cm<sup>2</sup>

(B) 121 cm<sup>2</sup>

(C) 64 cm<sup>2</sup>

(D) 169 cm<sup>2</sup>

Question Id : 21

21. ಪ್ರಕಾಶನು ಪಾರ್ಶ್ವದ ಅಳತೆ 1 ಸೆ.ಮೀ. ಇರುವ ಚೌಕದ ಚಿತ್ರವನ್ನು ಬಿಡಿಸುತ್ತಾನೆ. ಅದರ ಸುತ್ತ ಮತ್ತೊಂದು ಚೌಕವನ್ನು ಬರೆಯುತ್ತಾನೆ, ಹೇಗೆಂದರೆ 2ನೇ ಚೌಕದ ಪಾರ್ಶ್ವವು, ಅದಕ್ಕೆ ಅನುರೂಪವಾದ ಮೊದಲನೇ ಚೌಕದ ಸಮಾನಾಂತರ ಪಾರ್ಶ್ವದಿಂದ 1 ಸೆ.ಮೀ. ದೂರದಲ್ಲಿರುತ್ತದೆ. ಈಗ ಅವನು ಎರಡನೆಯದರ ಸುತ್ತ ಮತ್ತೊಂದು ಚೌಕವನ್ನು ಬರೆಯುತ್ತಾನೆ, ಹೇಗೆಂದರೆ ಅದರ ಪಾರ್ಶ್ವವು ಎರಡನೆಯದರಿಂದ 1 ಸೆ.ಮೀ. ದೂರದಲ್ಲಿರುತ್ತದೆ. ಬರೆಯಲಾದ ಎಲ್ಲಾ ಚೌಕಗಳ ಸುತ್ತಳತೆ 144 ಸೆ.ಮೀ. ಆಗುವವರೆಗೂ ಈ ಪ್ರಕ್ರಿಯೆಯನ್ನು ಮುಂದುವರಿಸುತ್ತಾನೆ. ಅತ್ಯಂತ ದೊಡ್ಡದಾದ ಚೌಕದ ವಿಸ್ತೀರ್ಣವೇನು ?

(A) 144 cm<sup>2</sup>

(B) 121 cm<sup>2</sup>

(C) 64 cm<sup>2</sup>

(D) 169 cm<sup>2</sup>

Question Id : 21

22. Damodar is 31 years old today. He has three sons. After 10 years, Damodar's age will be equal to the sum of the ages of his three sons. What is the sum of his sons' ages today ?

- (A) 16 (B) 25  
(C) 12 (D) 21

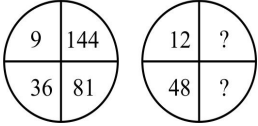
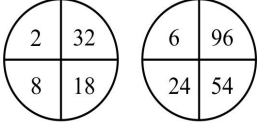
Question Id : 22

22. ದಾಮೋದರ್ ರವರ ವಯಸ್ಸು ಇಂದು 31 ವರ್ಷಗಳು. ಅವರಿಗೆ ಮೂರು ಗಂಡು ಮಕ್ಕಳಿದ್ದಾರೆ. 10 ವರ್ಷಗಳ ನಂತರ ದಾಮೋದರ್ ರವರ ವಯಸ್ಸು ಅವರ ಮೂರು ಗಂಡು ಮಕ್ಕಳ ವಯಸ್ಸಿನ ಮೊತ್ತಕ್ಕೆ ಸಮವಾಗಿರುತ್ತದೆ. ಇಂದು ಅವರ ಗಂಡು ಮಕ್ಕಳ ವಯಸ್ಸಿನ ಒಟ್ಟು ಮೊತ್ತವೇನು?

- (A) 16 (B) 25  
(C) 12 (D) 21

Question Id : 22

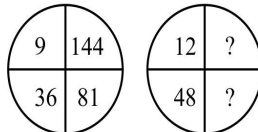
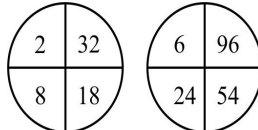
23. What are the missing numbers ?



- (A) 94 and 102 (B) 124 and 146  
(C) 86 and 92 (D) 108 and 192

Question Id : 23

23. ಕಾಣೆಯಾಗಿರುವ ಸಂಖ್ಯೆಗಳೇನು ?



- (A) 94 ಮತ್ತು 102 (B) 124 ಮತ್ತು 146  
(C) 86 ಮತ್ತು 92 (D) 108 ಮತ್ತು 192

Question Id : 23

24. Ashok starts from Mainabad to go to Nandgaon. The road is very good. So he is able to drive at a constant speed. He reaches his destination in 7 hours. His friend Brijesh who was to join him overslept and started one hour later. He drove faster with an average speed of 10 km/hr more than Ashok. Consequently, he reached Nandgaon at the same time as Ashok. What was the distance between the two towns ?
- (A) 420 km (B) 240 km  
(C) 370 km (D) 340 km

Question Id : 24

24. ಅಶೋಕ ಮೈನಾಬಾದ್‌ನಿಂದ ನಂದಗಾಂವ್‌ಗೆ ಹೋಗುತ್ತಿದ್ದಾನೆ. ರಸ್ತೆ ಬಹಳ ಚೆನ್ನಾಗಿದೆ. ಆದ್ದರಿಂದ ಸಮಾನವಾದ ವೇಗದಲ್ಲಿ ವಾಹನ ಚಾಲನೆ ಮಾಡುತ್ತಿದ್ದಾನೆ. ಅವನು ಸೇರಬೇಕಾದ ಸ್ಥಳವನ್ನು 7 ಗಂಟೆಗಳಲ್ಲಿ ತಲುಪುತ್ತಾನೆ. ಅವನ ಜೊತೆಯಲ್ಲಿ ಹೋಗಬೇಕಾಗಿದ್ದ ಅವನ ಸ್ನೇಹಿತ ಹೆಚ್ಚು ನಿಧ್ರೆ ಮಾಡಿ, ಒಂದು ಗಂಟೆಯ ನಂತರ ಹೊರಡುತ್ತಾನೆ. ಅವನು ಅಶೋಕನಿಗಿಂತಲೂ 10 ಕಿ.ಮೀ/ಗಂಟೆ ಹೆಚ್ಚಿನ ವೇಗದಲ್ಲಿ ವಾಹನ ಚಾಲನೆ ಮಾಡುತ್ತಾನೆ. ಆದ್ದರಿಂದ ನಂದಗಾಂವ್ ಅನ್ನು ಅಶೋಕನಷ್ಟೇ ಸಮಯದಲ್ಲಿ ತಲುಪುತ್ತಾನೆ. ಈ ಎರಡು ನಗರಗಳ ಮಧ್ಯೆ ಇರುವ ದೂರವೇನು ?
- (A) 420 km (B) 240 km  
(C) 370 km (D) 340 km

Question Id : 24

25. 18 students occupy 3/5 of the seats in the classroom. How many more students can be admitted so that 2/3 of the capacity will be full ?
- (A) 4 (B) 2  
(C) 6 (D) 8

Question Id : 25

25. 18 ವಿದ್ಯಾರ್ಥಿಗಳು ತರಗತಿಯಲ್ಲಿ 3/5 ರಷ್ಟು ಸೀಟುಗಳನ್ನು ಉಪಯೋಗಿಸಿರುತ್ತಾರೆ. ಅದರ ಸಾಮರ್ಥ್ಯದ 2/3 ರಷ್ಟು ಭರ್ತಿಯಾಗಲು ಇನ್ನು ಎಷ್ಟು ವಿದ್ಯಾರ್ಥಿಗಳಿಗೆ ಪ್ರವೇಶ ನೀಡಬೇಕು ?
- (A) 4 (B) 2  
(C) 6 (D) 8

Question Id : 25

26. Match the following List-I (International Beauty Pageants) with List-II (Countries of their Origin) :

List-I	List-II
a. Miss Universe	i. United Kingdom
b. Miss World	ii. Philippines
c. Miss Earth	iii. Poland
d. Miss Supranational	iv. United States of America

**Codes :**

- (A) a- i; b-ii; c-iii; d-iv (B) a-iv; b-i; c-ii; d-iii  
(C) a-iii; b-ii; c-iv; d-i (D) a-ii; b-iv; c-iii; d-i

Question Id : 26

26. ಪಟ್ಟಿ - I (ಅಂತರಾಷ್ಟ್ರೀಯ ಸೌಂದರ್ಯ ಸ್ಪರ್ಧೆ) ಅನ್ನು ಪಟ್ಟಿ - II (ಸ್ಥಾಪಕ ದೇಶಗಳು) ರೊಂದಿಗೆ ಹೊಂದಿಸಿ ಬರೆಯಿರಿ :

ಪಟ್ಟಿ - I	ಪಟ್ಟಿ - II
a. ಮಿಸ್ ಯೂನಿವರ್ಸ್	i. ಯುನೈಟೆಡ್ ಕಿಂಗ್ ಡಂ
b. ಮಿಸ್ ವರ್ಲ್ಡ್	ii. ಫಿಲಿಪೈನ್ಸ್
c. ಮಿಸ್ ಅರ್ಥ್	iii. ಪೋಲ್ಯಾಂಡ್
d. ಮಿಸ್ ಸುಪ್ರಾನಾಷನಲ್	iv. ಯುನೈಟೆಡ್ ಸ್ಟೇಟ್ಸ್ ಆಫ್ ಅಮೆರಿಕಾ

**ಸಂಕೇತಗಳು :**

- (A) a- i; b-ii; c-iii; d-iv (B) a-iv; b-i; c-ii; d-iii  
(C) a-iii; b-ii; c-iv; d-i (D) a-ii; b-iv; c-iii; d-i

Question Id : 26

27. Match the following authors with their works :

**List-I**

- a. Kuvempu
- b. Da.Ra. Bendre
- c. Masti Venkatesha Iyengar
- d. Dr. U.R. Anantamurthy

**List-II**

- i. Sankranti
- ii. Nenapina Doni
- iii. Pragne Matthu Parisara
- iv. Hrudaya Samudra

**Codes :**

(A) a- iv; b-ii; c-iii; d-i

(B) a-i; b-iv; c-ii; d-iii

(C) a-iii; b-iv; c-i; d-ii

(D) a-ii; b-iv; c-i; d-iii

Question Id : 27

27. ಲೇಖಕರು ಮತ್ತು ಅವರ ಕೃತಿಗಳನ್ನು ಹೊಂದಿಸಿ ಬರೆಯಿರಿ :

**ಪಟ್ಟಿ - I**

- a. ಕುವೆಂಪು
- b. ದಾ.ರಾ. ಬೇಂದ್ರೆ
- c. ಮಾಸ್ತಿ ವೆಂಕಟೇಶ ಐಯ್ಯಂಗಾರ್
- d. ಡಾ|| ಯು.ಆರ್. ಅನಂತಮೂರ್ತಿ

**ಪಟ್ಟಿ - II**

- i. ಸಂಕ್ರಾಂತಿ
- ii. ನೆನಪಿನ ದೋಣಿ
- iii. ಪ್ರಜ್ಞೆ ಮತ್ತು ಪರಿಸರ
- iv. ಹೃದಯ ಸಮುದ್ರ

(A) a- iv; b-ii; c-iii; d-i

(B) a-i; b-iv; c-ii; d-iii

(C) a-iii; b-iv; c-i; d-ii

(D) a-ii; b-iv; c-i; d-iii

Question Id : 27

28. Which of the following statements are true about Vijaya Utsav ?

- a. It is celebrated in Mysore.
- b. Janapada Kalavahini is one of its main attractions.

**Codes :**

(A) Only a is true.

(B) Both a and b are true.

(C) Both a and b are false.

(D) Only b is true.

Question Id : 28

28. ವಿಜಯ ಉತ್ಸವಕ್ಕೆ ಸಂಬಂಧಿಸಿದಂತೆ, ಕೆಳಗೆ ನೀಡಲಾದ ಹೇಳಿಕೆಗಳಲ್ಲಿ ಯಾವುವು ಸರಿ.

- a. ಇದನ್ನು ಮೈಸೂರಿನಲ್ಲಿ ಆಚರಿಸಲಾಗುತ್ತದೆ
- b. ಜನಪದ ಕಲಾವಾಹಿನಿ ಇದರ ಒಂದು ಮುಖ್ಯ ಆಕರ್ಷಣೆಯಾಗಿದೆ

**ಸಂಕೇತಗಳು :**

(A) a ಮಾತ್ರ ಸರಿ

(B) a ಮತ್ತು b ಎರಡೂ ಸರಿ

(C) a ಮತ್ತು b ಎರಡೂ ತಪ್ಪು

(D) b ಮಾತ್ರ ಸರಿ

Question Id : 28

29. Which of the following statements are true about Papanatha temple ?

- a. It is a blend of Nagara and Vesara style of architecture.
- b. It is constructed in Dravidian style only.
- c. It is the venue for Pattadakal Dance Festival.

**Codes :**

- (A) Both a and c are true.
- (B) Both b and c are true.
- (C) Both a and b are true.
- (D) None of these.

Question Id : 29

29. ಪಾಪನಾಥ ದೇವಾಲಯಕ್ಕೆ ಸಂಬಂಧಿಸಿದಂತೆ, ಕೆಳಗೆ ನೀಡಲಾದ ಹೇಳಿಕೆಗಳಲ್ಲಿ ಯಾವುವು ಸರಿ.

- a. ಇದು ನಗರ ಮತ್ತು ವೇಸರ ಶೈಲಿಯ ವಾಸ್ತು ಶಿಲ್ಪದ ಸಮ್ಮಿಲನವಾಗಿದೆ
- b. ಇದನ್ನು ಕೇವಲ ದ್ರಾವಿಡ ಶೈಲಿಯಲ್ಲಿ ಕಟ್ಟಲಾಗಿದೆ.
- c. ಇದು ಪಟ್ಟದ ಕಲ್ಲು ನೃತ್ಯ ಉತ್ಸವದ ಸ್ಥಳವಾಗಿದೆ.

**ಸಂಕೇತಗಳು :**

- (A) a ಮತ್ತು c ಎರಡೂ ಸರಿ
- (B) b ಮತ್ತು c ಎರಡೂ ಸರಿ
- (C) a ಮತ್ತು b ಎರಡೂ ಸರಿ
- (D) ಇವುಗಳಲ್ಲಿ ಯಾವುದೂ ಅಲ್ಲ

Question Id : 29

30. \_\_\_\_\_ is called father of Karnataka Unification.

- (A) Hardekar Manjappa
- (B) S. Nijalingappa
- (C) Chennabasappa
- (D) K.C. Reddy

Question Id : 30

30. ಕರ್ನಾಟಕದ ಏಕೀಕರಣ ಪಿತಾಮಹ ಎಂದು ಯಾರನ್ನು ಕರೆಯುತ್ತಾರೆ ?

- (A) ಹರ್ದೀಕರ್ ಮಂಜಪ್ಪ
- (B) ಎಸ್. ನಿಜಲಿಂಗಪ್ಪ
- (C) ಚೆನ್ನಬಸಪ್ಪ
- (D) ಕೆ.ಸಿ. ರೆಡ್ಡಿ

Question Id : 30

31. The chief economic advisor to the Government of India is

- (A) Sanjeev Sanyaal
- (B) K.V. Subramanyam
- (C) V. Anantha Nageswaran
- (D) Neeraj Bansal

Question Id : 31

31. ಭಾರತ [ಕೇಂದ್ರ] ಸರ್ಕಾರದ ಮುಖ್ಯ ಆರ್ಥಿಕ [ಹಣಕಾಸಿನ] ಸಲಹೆಗಾರರು.

- (A) ಸಂಜೀವ್ ಸನ್ಯಾಲ್
- (B) ಕೆ.ವಿ. ಸುಬ್ರಹ್ಮಣ್ಯಂ
- (C) ವಿ. ಅನಂತ ನಾಗೇಶ್ವರನ್
- (D) ನೀರಜ್ ಬನ್ಸಾಲ್

Question Id : 31

32. An Unicorn is

- (A) An unique product in the market
- (B) A startup valued at more than \$ 1 billion
- (C) An unique animal
- (D) A company producing unique type of good

Question Id : 32

32. ಯೂನಿಕಾರ್ನ್ ಎಂಬುದು

- (A) ಮಾರುಕಟ್ಟೆಯ ಒಂದು ವಿಶಿಷ್ಟ ವಸ್ತು
- (B) ಒಂದು ಬಿಲಿಯನ್ ಡಾಲರ್ ಮೌಲ್ಯದ ಸ್ಟಾರ್ಟ್ ಅಪ್
- (C) ಒಂದು ವಿಶಿಷ್ಟ ಪ್ರಾಣಿ
- (D) ವಿಶಿಷ್ಟ ವಸ್ತುವನ್ನು ತಯಾರಿಸುವ ಕಂಪನಿ

Question Id : 32

33. Which among the following provisions are added through Directive Principles of State Policy by 42nd Amendment Act of 1976 ?

- I. Healthy Development of Children
- II. Free Legal aid
- III. Decent Standard Life

Select the correct answer using the code given below :

- (A) I and III only
- (B) II and III only
- (C) I and II only
- (D) I, II and III

Question Id : 33

33. ರಾಜ್ಯ ನೀತಿಯ ನೇರ ತತ್ವಗಳಡಿಯಲ್ಲಿ 1976 ರ 42ನೇ ತಿದ್ದುಪಡಿ ಕಾಯ್ದೆಯ ಮೂಲಕ ಈ ಕೆಳಕಂಡ ಯಾವ ಅಂಶಗಳನ್ನು ಸೇರಿಸಲು ಅವಕಾಶ ಕಲ್ಪಿಸಲಾಯಿತು ?

- I. ಮಕ್ಕಳ ಆರೋಗ್ಯಾಭಿವೃದ್ಧಿ
- II. ಉಚಿತ ಕಾನೂನು ಸೇವೆ
- III. ಗೌರವಯುತ ಉತ್ತಮ ಜೀವನ

ಕೆಳಕಂಡ ಸಂಕೇತಗಳನ್ನು ಬಳಸಿ ಸರಿಯಾದ ಉತ್ತರವನ್ನು ಆಯ್ಕೆ ಮಾಡಿ.

- (A) I ಮತ್ತು III ಮಾತ್ರ
- (B) II ಮತ್ತು III ಮಾತ್ರ
- (C) I ಮತ್ತು II ಮಾತ್ರ
- (D) I, II ಮತ್ತು III

Question Id : 33

34. As per the 44th Amendment of the Constitution, which among the following fundamental rights cannot be suspended during emergency ?

- I. Protection of life and personal liberty.
- II. Protection against arrest and detention in certain cases.
- III. Protection of certain rights.
- IV. Protection in respect of convictions for offenses.

Choose the correct statement using codes given below :

**Codes :**

- (A) I and III only
- (B) II and III only
- (C) I and IV only
- (D) I, II and III

Question Id : 34

34. ಸಂವಿಧಾನದ 44ನೇ ತಿದ್ದುಪಡಿಯ ಪ್ರಕಾರ, ತುರ್ತು ಪರಿಸ್ಥಿತಿಯ ಸಂದರ್ಭದಲ್ಲಿ ಈ ಕೆಳಕಂಡ ಯಾವ ಮೂಲಭೂತ ಹಕ್ಕುಗಳನ್ನು ವಜಾ ಮಾಡಲಾಗುವುದಿಲ್ಲ ?

- I. ಜೀವ ಮತ್ತು ವೈಯಕ್ತಿಕ ಸ್ವಾತಂತ್ರ್ಯದ ರಕ್ಷಣೆ
- II. ಬಂಧನ ಮತ್ತು ಕೆಲವು ದಾವೆಗಳ ಪತ್ತೆಯ ವಿರುದ್ಧ ರಕ್ಷಣೆ
- III. ಕೆಲವು ಹಕ್ಕುಗಳ ರಕ್ಷಣೆ

IV. ಅಪರಾಧಿಗಳಿಗಾಗಿ ನೀಡಿರುವ ಶಿಕ್ಷೆಗೆ ಸಂಬಂಧಿಸಿದಂತೆ ರಕ್ಷಣೆಕೆಳಗೆ ಕೊಟ್ಟಿರುವ ಸಂಕೇತಗಳನ್ನು ಬಳಸಿ, ಸರಿಯಾದ ಹೇಳಿಕೆಯನ್ನು ಆಯ್ಕೆ ಮಾಡಿ.

ಸಂಕೇತಗಳು :

- (A) I ಮತ್ತು III ಮಾತ್ರ
- (B) II ಮತ್ತು III ಮಾತ್ರ
- (C) I ಮತ್ತು IV ಮಾತ್ರ
- (D) I, II ಮತ್ತು III

Question Id : 34



35. Karnataka Kayaka Yojane is a  
(A) Loan scheme for small scale Industries. (B) Loan scheme to encourage entrepreneurship.  
(C) Loan scheme to encourage entrepreneurship among members of women self-help group.  
(D) Loan scheme for specially abled entrepreneurs.

Question Id : 35

35. ಕರ್ನಾಟಕ ಕಾಯಕ ಯೋಜನೆ ಎಂದರೆ  
(A) ಸಣ್ಣ ಕೈಗಾರಿಕೆ ಉದ್ಯಮಗಳಿಗೆ ಸಾಲ ಸೌಲಭ್ಯ ಯೋಜನೆ  
(B) ಉದ್ಯಮಶೀಲತೆಯನ್ನು ಉತ್ತೇಜಿಸಲು ಸಾಲ ಸೌಲಭ್ಯ ಯೋಜನೆ  
(C) ಸ್ತ್ರೀ ಸ್ವ-ಸಹಾಯ ಗುಂಪುಗಳಲ್ಲಿ ಉದ್ಯಮಶೀಲತೆಯನ್ನು ಉತ್ತೇಜಿಸಲು ಸಾಲ ಸೌಲಭ್ಯ ಯೋಜನೆ  
(D) ವಿಶೇಷ ಚೇತನರಲ್ಲಿ ಉದ್ಯಮಶೀಲತೆಯನ್ನು ಹೆಚ್ಚಿಸಲು ಸಾಲ ಸೌಲಭ್ಯ ಯೋಜನೆ

Question Id : 35

36. Padma awards were not announced during the years :  
(A) 1993 to 1997 (B) 1972 to 1974  
(C) 1999 to 2001 (D) 1967 to 1970

Question Id : 36

36. ಯಾವ ವರ್ಷಗಳಲ್ಲಿ ಪದ್ಮ ಪ್ರಶಸ್ತಿಯನ್ನು ನೀಡಲಾಗಿಲ್ಲ  
(A) 1993 ರಿಂದ 1997 (B) 1972 ರಿಂದ 1974  
(C) 1999 ರಿಂದ 2001 (D) 1967 ರಿಂದ 1970

Question Id : 36

37. Contribution of Agriculture Sector to Karnataka State GDP 2020-21 is  
(A) 66% (B) 20%  
(C) 13% (D) 40%

Question Id : 37

37. 2020-21ರಲ್ಲಿ ಕರ್ನಾಟಕ ರಾಜ್ಯ ಜಿ.ಡಿ.ಪಿ ಗೆ ಕೃಷಿ ಕ್ಷೇತ್ರದ ಕೊಡುಗೆ  
(A) 66% (B) 20%  
(C) 13% (D) 40%

Question Id : 37

38. District with highest percentage of stunted children in Karnataka is  
(A) Raichur (B) Gulbarga  
(C) Koppal (D) Yadgir

Question Id : 38

38. ಕರ್ನಾಟಕದ ಯಾವ ಜಿಲ್ಲೆಯಲ್ಲಿ ಅತಿ ಹೆಚ್ಚು ಶೇಕಡವಾರು ಕುಂಟಿತ ಬೆಳವಣಿಗೆ ಮಕ್ಕಳು ಇದ್ದಾರೆ.  
(A) ರಾಯಚೂರು (B) ಗುಲ್ಬರ್ಗಾ  
(C) ಕೊಪ್ಪಳ (D) ಯಾದಗಿರಿ

Question Id : 38

39. Which of the following is the India's Oldest Dam ?  
(A) Tehri Dam (B) Krishna Raja Sagara Dam  
(C) Koyna Dam (D) Vani Vilas Dam

Question Id : 39

39. ಈ ಕೆಳಗಿನವುಗಳಲ್ಲಿ ಭಾರತದ ಅತ್ಯಂತ ಹಳೆಯ ಅಣೆಕಟ್ಟು ಯಾವುದು ?  
(A) ತೆಹ್ರಿ ಅಣೆಕಟ್ಟು (B) ಕೃಷ್ಣರಾಜ ಸಾಗರ ಅಣೆಕಟ್ಟು  
(C) ಕೊಯ್ನಾ ಅಣೆಕಟ್ಟು (D) ವಾಣಿ ವಿಲಾಸ ಅಣೆಕಟ್ಟು

Question Id : 39

40. Which of the following is not a West flowing river ?  
(A) Vedavati (B) Kali  
(C) Aghanashini (D) Sharavati

Question Id : 40

40. ಈ ಕೆಳಗಿನ ಯಾವುದು ಪಶ್ಚಿಮ ಮುಖವಾಗಿ ಹರಿಯುವ ನದಿಯಲ್ಲ ?  
(A) ವೇದಾವತಿ (B) ಕಾಳಿ  
(C) ಅಘನಾಶಿನಿ (D) ಶರಾವತಿ

Question Id : 40

41. Arrange the following in ascending order :

- a. Green Climate fund  
b. Kyoto Protocol  
c. Buenos Aires Plan of Action  
d. Bali Road Map

**Codes :**

- (A) c, b, d, a (B) a, c, b, d  
(C) d, b, c, a (D) b, c, d, a

Question Id : 41

41. ಈ ಕೆಳಗಿನವುಗಳನ್ನು ಏರುವಿಕೆ ಅನುಕ್ರಮದಲ್ಲಿ ಬರೆಯಿರಿ :

- a. ಗ್ರೀನ್ ಕ್ಲೈಮೇಟ್ ಫಂಡ್  
b. ಕ್ಯೂಟೋ ಪ್ರೋಟೋಕಾಲ್  
c. ಬ್ಯೂನೋಸ್ ಏರೀಸ್ ಪ್ಲಾನ್ ಆಫ್ ಆಕ್ಷನ್  
d. ಬಾಲಿ ರೋಡ್ ಮ್ಯಾಪ್

**ಸಂಕೇತಗಳು :**

- (A) c, b, d, a (B) a, c, b, d  
(C) d, b, c, a (D) b, c, d, a

Question Id : 41

42. Consider the following statements :

- a. Avalokana is a software launched by Government of Karnataka in January, 2021.  
b. It is used to track environment changes.

- (A) Both a and b are correct. (B) Both a and b are incorrect.  
(C) a is correct and b is incorrect. (D) a is incorrect and b is correct.

Question Id : 42

42. ಕೆಳಗಿನ ಹೇಳಿಕೆಗಳನ್ನು ಪರಿಗಣಿಸಿ.

- a. ಅವಲೋಕನ ತಂತ್ರಾಂಶವನ್ನು ಕರ್ನಾಟಕ ಸರ್ಕಾರ ಜನವರಿ 2021ರಲ್ಲಿ ಬಿಡುಗಡೆ ಮಾಡಿತು.  
b. ಇದನ್ನು ಪರಿಸರದ ಬದಲಾವಣೆಯನ್ನು ಪತ್ತೆ ಮಾಡಲು ಬಳಸಲಾಗುವುದು.

- (A) a ಮತ್ತು b ಎರಡೂ ಸರಿ (B) a ಮತ್ತು b ಎರಡೂ ತಪ್ಪು  
(C) a ಸರಿ ಆದರೆ b ತಪ್ಪು (D) a ತಪ್ಪು ಆದರೆ b ಸರಿ

Question Id : 42

43. The ruler who started 'Vikrama Era' in place of 'Shaka Era' belonged to this dynasty :

- (A) Chalukyas of Badami (B) Chalukyas of Kalyana  
(C) Rashtrakutas (D) Hoysalas of Dwarasamudra

Question Id : 43

43. 'ಶಕ ಸಂವತ್ಸರ' ದ ಬದಲಾಗಿ 'ವಿಕ್ರಮ ಸಂವತ್ಸರ' ವನ್ನು ಪ್ರಾರಂಭಿಸಿದ ರಾಜ ಯಾವ ರಾಜವಂಶಕ್ಕೆ ಸೇರಿದವರಾಗಿದ್ದಾರೆ ?

- (A) ಬಾದಾಮಿಯ ಚಾಲುಕ್ಯರು (B) ಕಲ್ಯಾಣದ ಚಾಲುಕ್ಯರು  
(C) ರಾಷ್ಟ್ರಕೂಟರು (D) ದ್ವಾರಸಮುದ್ರದ ಹೊಯ್ಸಳರು

Question Id : 43

44. Match the following :

**List-I**

- a. Kaviraja Maarga  
b. Aadi Purana  
c. Shabdamanidarpana  
d. Kumaravyasa Bharata

**List-II**

- i. Gadugina Narayanappa  
ii. Amoghavarsha  
iii. Pampa  
iv. Keshiraja

**Codes :**

- (A) a- iii; b-ii; c-i; d-iv (B) a- ii; b-iii; c-iv; d-i  
(C) a-ii; b-iii; c-i; d-iv (D) a-i; b-iv; c-ii; d-iii

Question Id : 44

44. ಹೊಂದಿಸಿ ಬರೆಯಿರಿ :

**ಪಟ್ಟಿ - I**

- a. ಕವಿರಾಜ ಮಾರ್ಗ  
b. ಆದಿ ಪುರಾಣ  
c. ಶಬ್ದಮಣಿದರ್ಪಣ  
d. ಕುಮಾರವ್ಯಾಸ ಭಾರತ

**ಪಟ್ಟಿ - II**

- i. ಗದುಗಿನ ನಾರಾಯಣಪ್ಪ  
ii. ಅಮೋಘವರ್ಷ  
iii. ಪಂಪ  
iv. ಕೇಶಿರಾಜ

**ಸಂಕೇತಗಳು :**

- (A) a- iii; b-ii; c-i; d-iv (B) a- ii; b-iii; c-iv; d-i  
(C) a-ii; b-iii; c-i; d-iv (D) a-i; b-iv; c-ii; d-iii

Question Id : 44

45. Vidhurashwatha day was celebrated on :

- (A) January 27, 1932 (B) July 15, 1928  
(C) November 12, 1935 (D) October 26, 1938

Question Id : 45

45. 'ವಿಧುರಾಶ್ವಥ ದಿನ' ವನ್ನು ಈ ದಿನ ಆಚರಿಸಲಾಗಿತ್ತು.

- (A) 27ನೇ ಜನವರಿ, 1932 (B) 15ನೇ ಜುಲೈ, 1928  
(C) 12ನೇ ನವೆಂಬರ್, 1935 (D) 26ನೇ ಅಕ್ಟೋಬರ್, 1938

Question Id : 45

46. 'Ghatikas' during the time of Hoysalas were :

- (A) Spiritual Centre (B) Education Centre  
(C) Trade Centre (D) Industrial Centre

Question Id : 46

46. ಹೊಯ್ಸಳರ ಕಾಲದಲ್ಲಿ 'ಘಟಿಕಾ' ಎಂದರೆ

- (A) ಆಧ್ಯಾತ್ಮಿಕ ಕೇಂದ್ರ (B) ಶಿಕ್ಷಣ ಕೇಂದ್ರ  
(C) ವ್ಯಾಪಾರ ಕೇಂದ್ರ (D) ಕೈಗಾರಿಕಾ ಕೇಂದ್ರ

Question Id : 46

47. First Indian woman to win gold at para Olympics is  
(A) Nita Siddharta (B) Avani Lekhara  
(C) Binu Das Gupta (D) Seeta Verma

Question Id : 47

47. ಪ್ಯಾರಾ ಓಲಿಂಪಿಕ್‌ನಲ್ಲಿ ಮೊದಲನೆಯ ಬಾರಿ ಚಿನ್ನದ ಪದಕವನ್ನು ಗೆದ್ದ ಭಾರತೀಯ ಮಹಿಳೆ.  
(A) ನೀತಾ ಸಿದ್ಧಾರ್ಥ (B) ಅವನಿ ಲೇಖಾರ  
(C) ಬಿನು ದಾಸ್ ಗುಪ್ತ (D) ಸೀತಾ ವರ್ಮಾ

Question Id : 47

48. International Association whose 8th Meeting of Agricultural Exports was recently hosted by India :  
(A) SAARC (B) BIMSTEC  
(C) ASEAN (D) SCO

Question Id : 48

48. ಯಾವ ಅಂತರರಾಷ್ಟ್ರೀಯ ಒಕ್ಕೂಟದ ಕೃಷಿ ರಫ್ತುಗಳ ಎಂಟನೇ ಸಭೆಯನ್ನು ಭಾರತ ದೇಶದಲ್ಲಿ ಇತ್ತೀಚೆಗೆ ಆಯೋಜಿಸಲಾಗಿತ್ತು ?  
(A) SAARC (B) BIMSTEC  
(C) ASEAN (D) SCO

Question Id : 48

49. Which Nation has recently declared food emergency ?  
(A) Nepal (B) Bhutan  
(C) Bangladesh (D) Sri Lanka

Question Id : 49

49. ಯಾವ ದೇಶ ಇತ್ತೀಚೆಗೆ ಆಹಾರ ತುರ್ತು ಪರಿಸ್ಥಿತಿಯನ್ನು ಘೋಷಣೆ ಮಾಡಿತ್ತು ?  
(A) ನೇಪಾಳ (B) ಭೂತಾನ  
(C) ಬಾಂಗ್ಲಾದೇಶ (D) ಶ್ರೀಲಂಕಾ

Question Id : 49

50. The first country to begin vaccination for toddlers against COVID 19 :  
(A) Cuba (B) USA  
(C) Germany (D) United Kingdom

Question Id : 50

50. ಸಣ್ಣ ಮಕ್ಕಳಿಗೆ ಕೋವಿಡ್ 19ರ ವಿರುದ್ಧ ಲಸಿಕೆ ನೀಡುವುದನ್ನು ಪ್ರಾರಂಭಿಸಿದ ಮೊದಲನೇ ದೇಶ ಯಾವುದು ?  
(A) ಕ್ಯೂಬಾ (B) ಯು.ಎಸ್.ಎ  
(C) ಜರ್ಮನಿ (D) ಯುನೈಟೆಡ್ ಕಿಂಗ್‌ಡಮ್

Question Id : 50







ವಿಷಯ	ವಿಷಯ ಸಂಕೇತ	ಸಮಯ
ಕಡ್ಡಾಯ ಪತ್ರಿಕೆ – III (ಸಾಮಾನ್ಯ ಜ್ಞಾನ)	29	ಮ. 2.30 ರಿಂದ 4.30 ರ ವರೆಗೆ (2 Hours)
ಒಟ್ಟು ಅವಧಿ	ಒಟ್ಟು ಪ್ರಶ್ನೆಗಳು	ಉತ್ತರಿಸಲು ಇರುವ ಗರಿಷ್ಠ ಅವಧಿ
150 ನಿಮಿಷಗಳು	50	120 ನಿಮಿಷಗಳು
ನಿಮ್ಮ ನೋಂದಣಿ ಸಂಖ್ಯೆಯನ್ನು ಬರೆಯಿರಿ		ಪ್ರಶ್ನೆಪುಸ್ತಿಕೆಯ ಕ್ರಮಸಂಖ್ಯೆ

ಮಾಡಿ :

1. ಕೊಠಡಿ ಮೇಲ್ವಿಚಾರಕರಿಂದ ಈ ಪ್ರಶ್ನೆಪತ್ರಿಕೆಯನ್ನು ನಿಮಗೆ ಮ. 2.25 ಆದ ನಂತರ ಕೊಡಲಾಗುವುದು.
2. ಅಭ್ಯರ್ಥಿಗಳು ನೋಂದಣಿ ಸಂಖ್ಯೆಯನ್ನು ಓ.ಎಂ.ಆರ್. ಉತ್ತರಪತ್ರಿಕೆಯಲ್ಲಿ ಬರೆದು ಅದಕ್ಕೆ ಸಂಬಂಧಿಸಿದ ವೃತ್ತಗಳನ್ನು ಸಂಪೂರ್ಣವಾಗಿ ತುಂಬಿದ್ದೀರೆಂದು ಖಾತ್ರಿಪಡಿಸಿಕೊಳ್ಳಿ.
3. ಪ್ರಶ್ನೆಪತ್ರಿಕೆಯ ಕ್ರಮಸಂಖ್ಯೆ ಮತ್ತು ಓ.ಎಂ.ಆರ್. ಉತ್ತರಪತ್ರಿಕೆಯ ಕ್ರಮಸಂಖ್ಯೆ ಒಂದೇ ಎಂಬುದನ್ನು ಖಚಿತಪಡಿಸಿಕೊಳ್ಳಿ. ಯಾವುದೇ ದೋಷಗಳಿದ್ದಲ್ಲಿ ತಕ್ಷಣ ಪ್ರಶ್ನೆಪತ್ರಿಕೆಯ ಕ್ರಮಸಂಖ್ಯೆ ಮತ್ತು ಓ.ಎಂ.ಆರ್. ಉತ್ತರಪತ್ರಿಕೆಯನ್ನು ಬದಲಾಯಿಸಿಕೊಳ್ಳುವುದು.
4. ಪ್ರಶ್ನೆಪತ್ರಿಕೆಯ ಕ್ರಮಸಂಖ್ಯೆಯನ್ನು ಓ.ಎಂ.ಆರ್. ಉತ್ತರಪತ್ರಿಕೆಯಲ್ಲಿ ಬರೆದು ಅದಕ್ಕೆ ಸಂಬಂಧಿಸಿದ ವೃತ್ತಗಳನ್ನು ಸಂಪೂರ್ಣವಾಗಿ ತುಂಬಬೇಕು.
5. ಓ.ಎಂ.ಆರ್. ಉತ್ತರ ಪತ್ರಿಕೆಯ ಕೆಳಭಾಗದ ನಿಗದಿತ ಜಾಗದಲ್ಲಿ ಪೂರ್ಣ ಸಹಿ ಮಾಡಬೇಕು.

ಮಾಡಬೇಡಿ :

1. ಓ.ಎಂ.ಆರ್.ಉತ್ತರಪತ್ರಿಕೆಯಲ್ಲಿ ಮುದ್ರಿತವಾಗಿರುವ ಟೈಮಿಂಗ್ ಮಾರ್ಕನ್ನು ತಿದ್ದಬಾರದು / ಹಾಳುಮಾಡಬಾರದು / ಅಳಿಸಬಾರದು.
2. ಮೂರನೇ ಬೆಲ್ ಮ. 2.30 ಕ್ಕೆ ಆಗುತ್ತದೆ. ಅಲ್ಲಿಯವರೆಗೂ,
  - ಪ್ರಶ್ನೆಪತ್ರಿಕೆಯ ಬಲಭಾಗದಲ್ಲಿರುವ ಸೀಲ್ ಅನ್ನು ತೆಗೆಯಬಾರದು.
  - ಪ್ರಶ್ನೆಪತ್ರಿಕೆಯ ಒಳಗಡೆ ಇರುವ ಪ್ರಶ್ನೆಗಳನ್ನು ನೋಡಲು ಪ್ರಯತ್ನಿಸಬಾರದು ಮತ್ತು ಓ.ಎಂ.ಆರ್. ಉತ್ತರಪತ್ರಿಕೆಯಲ್ಲಿ ಉತ್ತರಿಸಲು ಪ್ರಾರಂಭಿಸಬಾರದು.

ಅಭ್ಯರ್ಥಿಗಳಿಗೆ ಮುಖ್ಯ ಸೂಚನೆಗಳು

1. ಪ್ರಶ್ನೆಗಳಲ್ಲಿ ಬಳಸಿರುವ signs and symbols ಗಳನ್ನು, ಬೇರೆ ರೀತಿಯಲ್ಲಿ ಹೇಳದ ಹೊರತು, ನಿಗದಿತ ಪಠ್ಯಪುಸ್ತಕದಲ್ಲಿನ ಅರ್ಥವನ್ನು ಪರಿಗಣಿಸಬೇಕು.
2. ಪ್ರಶ್ನೆಪತ್ರಿಕೆಯಲ್ಲಿ ಒಟ್ಟು 50 ಪ್ರಶ್ನೆಗಳಿದ್ದು, ಪ್ರತಿ ಪ್ರಶ್ನೆಗೂ 4 ಬಹು ಆಯ್ಕೆ ಉತ್ತರಗಳು ಇರುತ್ತವೆ. ಪ್ರತಿ ಪ್ರಶ್ನೆಯ ಕೆಳಗೆ ಕೊಟ್ಟಿರುವ ನಾಲ್ಕು ಬಹು ಆಯ್ಕೆಯ ಉತ್ತರಗಳಲ್ಲಿ ಸರಿಯಾದ ಒಂದು ಉತ್ತರವನ್ನು ಆಯ್ಕೆ ಮಾಡಿ.
3. ಮೂರನೇ ಬೆಲ್ ಅಂದರೆ ಮ. 2.30 ರ ನಂತರ ಪ್ರಶ್ನೆಪತ್ರಿಕೆಯ ಬಲಭಾಗದಲ್ಲಿರುವ ಸೀಲ್ ತೆಗೆದು ಈ ಪ್ರಶ್ನೆಪತ್ರಿಕೆಯಲ್ಲಿ ಯಾವುದೇ ಪುಟಗಳು ಮುದ್ರಿತವಾಗಿಲ್ಲದೇ ಇರುವುದು ಕಂಡು ಬಂದಲ್ಲಿ ಅಥವಾ ಹರಿದು ಹೋಗಿದ್ದಲ್ಲಿ ಅಥವಾ ಯಾವುದೇ ಐಟಿಂಗುಗಳು ಬಿಟ್ಟುಹೋಗಿದ್ದಲ್ಲಿ ಎಂಬುದನ್ನು ಖಚಿತಪಡಿಸಿಕೊಂಡು, ಈ ರೀತಿ ಆಗಿದ್ದರೆ ಕೂಡಲೇ ಕೊಠಡಿ ಮೇಲ್ವಿಚಾರಕರಿಂದ ಪ್ರಶ್ನೆಪತ್ರಿಕೆಯನ್ನು ಬದಲಾಯಿಸಿಕೊಳ್ಳಿ. ನಂತರ ಓ.ಎಂ.ಆರ್. ಉತ್ತರಪತ್ರಿಕೆಯಲ್ಲಿ ಉತ್ತರಿಸಲು ಪ್ರಾರಂಭಿಸುವುದು.
4. ಪ್ರಶ್ನೆಪತ್ರಿಕೆಯಲ್ಲಿನ ಪ್ರಶ್ನೆಗೆ ಅನುಗುಣವಾಗಿರುವ ಸರಿ ಉತ್ತರವನ್ನು ಓ.ಎಂ.ಆರ್. ಉತ್ತರಪತ್ರಿಕೆಯಲ್ಲಿ ಅದೇ ಕ್ರಮ ಸಂಖ್ಯೆಯ ಮುಂದೆ ನೀಡಿರುವ ಸಂಬಂಧಿಸಿದ ವೃತ್ತವನ್ನು ನಿಲಿ ಅಥವಾ ಕಪ್ಪು ಶಾಯಿಯ ಬಾಲ್ ಪಾಯಿಂಟ್ ಪೆನ್‌ನಿಂದ ಸಂಪೂರ್ಣ ತುಂಬುವುದು.

<p><b>ಸರಿಯಾದ ಕ್ರಮ</b></p> <p><b>CORRECT METHOD</b></p> <p>(A) ● (C) (D)</p>	<p><b>ತಪ್ಪು ಕ್ರಮಗಳು WRONG METHODS</b></p> <p><del>(A)</del> (B) (C) (D) (A) (B) (C) (D) (A) ● ● (D)</p> <p>(A) (B) (C) (D) (A) ● (C) (D)</p>
---	--

5. ಈ ಓ.ಎಂ.ಆರ್. ಉತ್ತರಪತ್ರಿಕೆಯನ್ನು ಸ್ಟ್ಯಾನ್ ಮಾಡುವ ಸ್ಟ್ಯಾನರ್ ಬಹಳ ಸೂಕ್ಷ್ಮವಾಗಿದ್ದು ಸಣ್ಣ ಗುರುತನ್ನು ಸಹ ದಾಖಲಿಸುತ್ತದೆ. ಆದ್ದರಿಂದ ಓ.ಎಂ.ಆರ್. ಉತ್ತರಪತ್ರಿಕೆಯಲ್ಲಿ ಉತ್ತರಿಸುವಾಗ ಎಚ್ಚರಿಕೆ ವಹಿಸಿ.
6. ಪ್ರಶ್ನೆಪತ್ರಿಕೆಯಲ್ಲಿ ಕೊಟ್ಟಿರುವ ಖಾಲಿಜಾಗವನ್ನು ರಫ್ ಕೆಲಸಕ್ಕೆ ಉಪಯೋಗಿಸಿ. ಓ.ಎಂ.ಆರ್. ಉತ್ತರಪತ್ರಿಕೆಯನ್ನು ಇದಕ್ಕೆ ಉಪಯೋಗಿಸಬೇಡಿ.
7. ಕೊನೆಯ ಬೆಲ್ ಅಂದರೆ ಸಂ. 4.30 ಆದ ನಂತರ ಉತ್ತರಿಸುವುದನ್ನು ನಿಲ್ಲಿಸಿ.
8. ಓ.ಎಂ.ಆರ್. ಉತ್ತರಪತ್ರಿಕೆಯನ್ನು ಕೊಠಡಿ ಮೇಲ್ವಿಚಾರಕರಿಗೆ ಯಥಾಸ್ಥಿತಿಯಲ್ಲಿ ನೀಡಿರಿ.
9. ಕೊಠಡಿ ಮೇಲ್ವಿಚಾರಕರು ಮೇಲ್ಭಾಗದ ಹಾಳೆಯನ್ನು ಪ್ರತ್ಯೇಕಿಸಿ (ಕಚೇರಿ ಪ್ರತಿ) ತನ್ನ ವಶದಲ್ಲಿ ಇಟ್ಟುಕೊಂಡು ತಳಬದಿಯ ಯಥಾಪ್ರತಿಯನ್ನು (ಅಭ್ಯರ್ಥಿಯ ಪ್ರತಿ) ಅಭ್ಯರ್ಥಿಗಳಿಗೆ ಕೊಡುತ್ತಾರೆ.

ಸೂಚನೆ : ಕನ್ನಡ ಆವೃತ್ತಿಯ ಪ್ರಶ್ನೆಗಳಲ್ಲಿ ಉತ್ತರಿಸುವ ಅಭ್ಯರ್ಥಿಗಳಿಗೆ ಕನ್ನಡದಲ್ಲಿ ಮುದ್ರಿತವಾಗಿರುವ ಪ್ರಶ್ನೆಗಳ ಬಗ್ಗೆ ಏನಾದರೂ ಸಂದೇಹವಿದ್ದಲ್ಲಿ ಇಂಗ್ಲಿಷ್ ಆವೃತ್ತಿಯ ಪ್ರಶ್ನೆಪತ್ರಿಕೆಯನ್ನು ನೋಡಬಹುದು. ಏನಾದರೂ ವ್ಯತ್ಯಾಸ ಕಂಡುಬಂದಲ್ಲಿ ಇಂಗ್ಲಿಷ್ ಆವೃತ್ತಿಯನ್ನು ಅಂತಿಮ ಎಂದು ಪರಿಗಣಿಸಲಾಗುವುದು.