

COMPETITIVE EXAMINATION – 2017

DATE and TIME	POST	SUBJECT
06-08-2017 2.30 p.m. to 4.30 p.m.	Assistant Agricultural Officer	GENERAL KNOWLEDGE PAPER

MAXIMUM MARKS	TOTAL DURATION	MAXIMUM TIME FOR ANSWERING
100	120 Minutes	90 Minutes

MENTION YOUR REGISTER NUMBER				QUESTION BOOKLET DETAILS VERSION CODE / SERIAL NUMBER	
				XXXXXX	

DO's :

1. Check whether the Register No. has been entered and shaded in the respective circles on the OMR Answer Sheet.
2. This question booklet is issued to you by the invigilator after the 2nd bell i.e., after 2.50 p.m.
3. The Version Code / Serial Number of this question booklet should be entered on the OMR Answer Sheet and the respective circles should also be shaded completely.
4. Compulsorily affix the complete signature at the bottom portion of the OMR Answer Sheet in the space provided.

DON'Ts :

1. **The timing and marks printed on the OMR Answer Sheet should not be damaged / mutilated / spoiled.**
2. The 3rd Bell rings at 3.00 p.m., till then;
 - Do not remove the seal present on the right hand side of this question booklet.
 - Do not look inside this question booklet.
 - Do not start answering on the OMR Answer Sheet.

IMPORTANT INSTRUCTIONS TO CANDIDATES

1. This question booklet contains 100 (items) questions and each question will have one statement and four answers. (Four different options / responses.)
2. After the 3rd Bell is rung at 3.00 p.m., remove the paper seal / polythene bag of this question booklet and check that this booklet does not have any unprinted or torn or missing pages or items etc., if so, get it replaced by a complete test booklet. Read each item and start answering on the OMR Answer Sheet.
3. During the subsequent 90 minutes :
 - Read each question (item) carefully.
 - Choose one correct answer from out of the four available responses (options / choices) given under each question / item. In case you feel that there is more than one correct response, mark the response which you consider the best. In any case, choose **only one response** for each item.
 - Completely **darken / shade** the relevant circle with a **blue or black ink ballpoint pen against the question number on the OMR answer sheet.**

Correct Method of shading the circle on the OMR Answer Sheet is : 

4. Please note that even a minute unintended ink dot on the OMR Answer Sheet will also be recognized and recorded by the scanner. Therefore, avoid multiple markings of any kind on the OMR Answer Sheet.
5. Use the space provided on each page of the question booklet for Rough Work. Do not use the OMR Answer Sheet for the same.
6. After the **last bell is rung at 4.30 p.m.**, stop marking on the OMR Answer Sheet and affix your **left hand thumb impression** on the OMR Answer Sheet as per the instructions.
7. Hand over the **OMR Answer Sheet** to the room invigilator as it is.
8. After separating the top sheet (KEA copy), the invigilator will return the bottom sheet replica (Candidate's copy) to you to carry home for self evaluation.
9. Preserve the replica of the OMR Answer Sheet for a minimum period of ONE year.
10. In case of any discrepancy in the English and Kannada versions, the English version will be taken as final.

1. Who among the following gave the idea of a constituent assembly for India in the year 1934 ?
 (A) B.R. Ambedkar (B) Jawaharlal Nehru
 (C) M.N. Roy
 (D) Subhash Chandra Bose

Question Id : 1

2. The presiding officer of which House is not a member of the house ?
 (A) Lok Sabha (B) Rajya Sabha
 (C) Vidhan Sabha (D) Vidhan Parishad

Question Id : 2

3. The date on which Government of India celebrates 'Civil Services Day' every year ?
 (A) April 21, (B) April 24,
 (C) May 8, (D) May 9,

Question Id : 3

4. Which of the following states sends the largest number to Lok Sabha after Uttar Pradesh ?
 (A) Maharashtra (B) Bihar
 (C) West Bengal (D) Tamil Nadu

Question Id : 4

5. Which of the following programme has been recently ranked as the world's largest public works programme by the World Bank ?
 (A) Antyodaya Yojana
 (B) Pradhan Mantri Gram Sadak Yojana
 (C) Mid-day Meal Programme
 (D) MGNREGA

Question Id : 5

6. How many seats are reserved for the members of the Scheduled Tribes in the Lok Sabha ?
 (A) 27 (B) 37
 (C) 47 (D) 57

Question Id : 6

1. 1934 ರಲ್ಲಿ ಭಾರತ ಸಂವಿಧಾನ ರಚನಾ ಮಂಡಳಿಯ ಯೋಜನೆಯನ್ನು ಈ ಕೆಳಕಂಡವರಲ್ಲಿ ಸೂಚಿಸಿದವರು ಯಾರು ?
 (A) ಬಿ.ಆರ್. ಅಂಬೇಡ್ಕರ್ (B) ಜವಾಹರಲಾಲ್ ನೆಹರು
 (C) ಎಂ.ಎನ್. ರಾಯ್ (D) ಸುಭಾಷ್ ಚಂದ್ರ ಬೋಸ್

Question Id : 1

2. ಈ ಕೆಳಕಂಡ ಯಾವ ಸದನದ ಸಭಾಧ್ಯಕ್ಷರು ಆ ಸದನದ ಸದಸ್ಯರಾಗಿರುವುದಿಲ್ಲ ?
 (A) ಲೋಕ ಸಭೆ (B) ರಾಜ್ಯ ಸಭೆ
 (C) ವಿಧಾನ ಸಭೆ (D) ವಿಧಾನ ಪರಿಷತ್ತು

Question Id : 2

3. ಯಾವ ದಿನವನ್ನು ಭಾರತ ಸರ್ಕಾರವು ನಾಗರಿಕ ಸೇವಾ ದಿನ ವನ್ನಾಗಿ ಪ್ರತಿ ವರ್ಷ ಆಚರಿಸಲಾಗುತ್ತದೆ ?
 (A) ಏಪ್ರಿಲ್ 21 (B) ಏಪ್ರಿಲ್ 24
 (C) ಮೇ 8 (D) ಮೇ 9

Question Id : 3

4. ಈ ಕೆಳಕಂಡ ರಾಜ್ಯಗಳಲ್ಲಿ ಯಾವ ರಾಜ್ಯವು ಉತ್ತರ ಪ್ರದೇಶದ ನಂತರ ಅತಿ ಹೆಚ್ಚು ಲೋಕ ಸಭಾ ಸದಸ್ಯರನ್ನು ಆಯ್ಕೆ ಮಾಡುತ್ತದೆ ?
 (A) ಮಹಾರಾಷ್ಟ್ರ (B) ಬಿಹಾರ
 (C) ಪಶ್ಚಿಮ ಬಂಗಾಳ (D) ತಮಿಳುನಾಡು

Question Id : 4

5. ಈ ಕೆಳಕಂಡ ಯಾವ ಯೋಜನೆಯು ವಿಶ್ವ ಬ್ಯಾಂಕ್‌ನಿಂದ ಜಗತ್ತಿನಲ್ಲೇ ಬೃಹತ್ ಸಾರ್ವಜನಿಕ ಕಾರ್ಯಕ್ರಮ ಯೋಜನೆ ಎಂದು ಪರಿಗಣಿಸಲ್ಪಟ್ಟಿದೆ ?
 (A) ಅಂತೋದಯ ಯೋಜನೆ
 (B) ಪ್ರಧಾನಮಂತ್ರಿ ಗ್ರಾಮ ಸಡಕ್ ಯೋಜನೆ
 (C) ಮಧ್ಯಾಹ್ನದ ಬಿಸಿಯೂಟ ಯೋಜನೆ
 (D) ಎಂಜಿಎನ್‌ಆರ್‌ಇಜಿಎ

Question Id : 5

6. ಲೋಕ ಸಭೆಯಲ್ಲಿ ಎಷ್ಟು ಸ್ಥಾನಗಳನ್ನು ಪರಿಶಿಷ್ಟ ಪಂಗಡದ ಸದಸ್ಯರಿಗೆ ಮೀಸಲಿರಿಸಲಾಗಿದೆ ?
 (A) 27 (B) 37
 (C) 47 (D) 57

Question Id : 6

7. At present the Governor of a State in India draws a monthly salary of
(A) 1,00,000 (B) 1,10,000
(C) 1,25,000 (D) 1,50,000

Question Id : 7

8. Who among the following ladies not served as Chief Minister in a State of India ?
(A) Nandini Satpathy (B) Rabri Devi
(C) Janki Ramachandran
(D) Rama Devi

Question Id : 8

9. The Pradhanmantri Ujjwala Yojana is aimed at
(A) Providing LED bulbs to all BPL families
(B) Providing LPG connections to all BPL house holds
(C) Providing electricity to all BPL house holds
(D) Providing smokeless kerosene stoves to all BPL house holds

Question Id : 9

10. Which is the nodal ministry in the Government of India to oversee the functioning of the National Disaster Response Force (NDRF) ?
(A) Ministry of Defence
(B) Ministry of Water Resource
(C) Ministry of Surface Transport
(D) Ministry of Home Affairs

Question Id : 10

11. Wheeler Island in Odissa used to launch vehicles pertaining to India's missile programme has been renamed after an Indian Scientist.
(A) A.P.J Abdul Kalam (B) Vikram Sarabhai
(C) Satish Dhavan
(D) Homi Jahangir Bhabha

Question Id : 11

7. ಪ್ರಸ್ತುತ ಭಾರತದ ರಾಜ್ಯವೊಂದರ ರಾಜ್ಯಪಾಲರು ಪಡೆಯುತ್ತಿರುವ ಮಾಸಿಕ ವೇತನ
(A) 1,00,000 (B) 1,10,000
(C) 1,25,000 (D) 1,50,000

Question Id : 7

8. ಈ ಕೆಳಕಂಡ ಮಹಿಳೆಯರಲ್ಲಿ ಯಾರು ಭಾರತದ ರಾಜ್ಯವೊಂದರ ಮುಖ್ಯಮಂತ್ರಿಯಾಗಿ ಕಾರ್ಯ ನಿರ್ವಹಿಸಿಲ್ಲ ?
(A) ನಂದಿನಿ ಸತ್ಪತಿ (B) ರಾಬ್ರಿ ದೇವಿ
(C) ಜಾನಕಿ ರಾಮಚಂದ್ರನ್ (D) ರಮಾದೇವಿ

Question Id : 8

9. ಪ್ರಧಾನಮಂತ್ರಿ ಉಜ್ವಲ ಯೋಜನೆಯ ಗುರಿ ಎಂದರೆ
(A) ಎಲ್ಲಾ ಬಿಪಿಎಲ್ ಕುಟುಂಬಗಳಿಗೆ ಎಲ್‌ಇಡಿ ಬಲ್ಬ್ ಗಳನ್ನು ಒದಗಿಸುವುದು
(B) ಎಲ್ಲಾ ಬಿಪಿಎಲ್ ಕುಟುಂಬಗಳಿಗೆ ಎಲ್‌ಪಿಜಿ ಸಂಪರ್ಕ ಒದಗಿಸುವುದು
(C) ಎಲ್ಲಾ ಬಿಪಿಎಲ್ ಕುಟುಂಬಗಳಿಗೆ ವಿದ್ಯುತ್ ಸೌಲಭ್ಯ ಒದಗಿಸುವುದು
(D) ಎಲ್ಲಾ ಬಿಪಿಎಲ್ ಕುಟುಂಬಗಳಿಗೆ ಹೊಗೆ ರಹಿತ ಸೀಮೆಎಣ್ಣೆ ಸ್ಟೋವ್ ಗಳನ್ನು ಒದಗಿಸುವುದು

Question Id : 9

10. ಭಾರತ ಸರ್ಕಾರದ ಯಾವ ಮಂತ್ರಾಲಯವು ರಾಷ್ಟ್ರೀಯ ವಿಪತ್ತು ನಿರ್ವಹಣಾ ಪಡೆಯ (NDRF) ನೋಡಲ್ ಮಂತ್ರಾಲಯವಾಗಿ ಕಾರ್ಯ ನಿರ್ವಹಿಸುತ್ತದೆ ?
(A) ರಕ್ಷಣಾ ಮಂತ್ರಾಲಯ
(B) ಜಲ ಸಂಪನ್ಮೂಲ ಮಂತ್ರಾಲಯ
(C) ಭೂ ಸಾರಿಗೆ ಮಂತ್ರಾಲಯ (D) ಗೃಹ ಮಂತ್ರಾಲಯ

Question Id : 10

11. ಭಾರತದ ಕ್ಷಿಪಣಿ ಉಡಾವಣಾ ಪರೀಕ್ಷೆಗೆ ಸಂಬಂಧಿಸಿದ ಒಡಿಸ್ಸಾದ ವ್ಹೀಲರ್ ದ್ವೀಪಕ್ಕೆ ಭಾರತೀಯ ವಿಜ್ಞಾನಿಯೊಬ್ಬರ ಹೆಸರನ್ನಿಡಲಾಗಿದೆ.
(A) ಎ.ಪಿ.ಜೆ. ಅಬ್ದುಲ್ ಕಲಾಂ (B) ವಿಕ್ರಮ್ ಸಾರಾಭಾಯ್
(C) ಸತೀಶ್ ಧವನ್
(D) ಹೋಮಿ ಜಹಾಂಗೀರ್ ಬಾಬಾ

Question Id : 11

12. When was Prime Minister Narendra Modi demonitised high value currency notes ?
 (A) November 7, 2016 (B) November 8, 2016
 (C) November 9, 2016
 (D) November 10, 2016

Question Id : 12

13. Who was the first person to become the Prime Minister of India without being the member of the Lok Sabha ?
 (A) Manmohan Singh (B) H.D. Devegowda
 (C) Indira Gandhi (D) I.K. Gujral

Question Id : 13

14. Democratic Decentralisation in India means
 (A) Establishment of Panchayati Raj
 (B) Make financial decentralisation in favour of the States
 (C) Decentralisation of power in bureaucratic structure
 (D) Distribution of power among three organs of the government.

Question Id : 14

15. The constitution of India envisages three types of services
 (A) Navy, Air Force and Army
 (B) Civil, Military and Para-military
 (C) Internal, External and Boundary Services
 (D) All India Services, Central Services and State Services

Question Id : 15

16. Philology is the
 (A) Study of Bones (B) Study of Muscles
 (C) Study of Architecture
 (D) Science of Languages

Question Id : 16

17. The number of already named bones in the human skeleton is
 (A) 200 (B) 206
 (C) 212 (D) 218

Question Id : 17

12. ಪ್ರಧಾನಮಂತ್ರಿ ನರೇಂದ್ರ ಮೋದಿಯವರು ಯಾವಾಗ ಅಧಿಕ ಮೊತ್ತದ ನೋಟುಗಳನ್ನು ಅಮಾನ್ಯೀಕರಣಗೊಳಿಸಿದರು ?
 (A) ನವೆಂಬರ್ 7, 2016 (B) ನವೆಂಬರ್ 8, 2016
 (C) ನವೆಂಬರ್ 9, 2016 (D) ನವೆಂಬರ್ 10, 2016

Question Id : 12

13. ಇವರಲ್ಲಿ ಯಾರು ಲೋಕ ಸಭಾ ಸದಸ್ಯರಾಗದಿದ್ದರೂ ಭಾರತದ ಪ್ರಧಾನಮಂತ್ರಿಯಾಗಿ ಕಾರ್ಯ ನಿರ್ವಹಿಸಿದ ಪ್ರಥಮ ವ್ಯಕ್ತಿಯಾಗಿದ್ದಾರೆ ?
 (A) ಮನಮೋಹನ್ ಸಿಂಗ್ (B) ಹೆಚ್.ಡಿ. ದೇವೇಗೌಡ
 (C) ಇಂದಿರಾ ಗಾಂಧಿ (D) ಐ.ಕೆ. ಗುಜ್ರಾಲ್

Question Id : 13

14. ಭಾರತದಲ್ಲಿ ಪ್ರಜಾಸತ್ತಾತ್ಮಕ ವಿಕೇಂದ್ರೀಕರಣದ ಅರ್ಥವೆಂದರೆ
 (A) ಪಂಚಾಯಿತಿ ರಾಜ್ ವ್ಯವಸ್ಥೆಯ ಸ್ಥಾಪನೆ
 (B) ರಾಜ್ಯಗಳಿಗೆ ಹೆಚ್ಚು ಹಣಕಾಸಿನ ವಿಕೇಂದ್ರೀಕರಣ ಮಾಡುವುದು
 (C) ಆಡಳಿತಶಾಹಿ ವ್ಯವಸ್ಥೆಯಲ್ಲಿ ಅಧಿಕಾರದ ವಿಕೇಂದ್ರೀಕರಣ
 (D) ಸರ್ಕಾರದ ಮೂರು ಅಂಗಗಳ ನಡುವೆ ಅಧಿಕಾರದ ವಿತರಣೆ

Question Id : 14

15. ಭಾರತ ಸಂವಿಧಾನವು ಮೂರು ರೀತಿಯ ಸೇವೆಗಳನ್ನು ಒಳಗೊಂಡಿದೆ
 (A) ನೌಕಾ, ವಾಯು ಮತ್ತು ಭೂಸೇನೆ ಸೇವೆಗಳು
 (B) ನಾಗರಿಕ, ಮಿಲಿಟರಿ ಮತ್ತು ಅರೆಮಿಲಿಟರಿ
 (C) ಆಂತರಿಕ, ಬಾಹ್ಯ ಮತ್ತು ಗಡಿರಕ್ಷಣೆ ಸೇವೆಗಳು
 (D) ಅಖಿಲಭಾರತ ಸೇವೆಗಳು, ಕೇಂದ್ರ ಸೇವೆಗಳು ಮತ್ತು ರಾಜ್ಯ ಸೇವೆಗಳು

Question Id : 15

16. ಫಿಲಾಲಜಿ ಕೆಳಗಿನ ಯಾವುದನ್ನು ಅಭ್ಯಸಿಸುತ್ತದೆ ?
 (A) ಮೂಳೆಗಳು (B) ಮಾಂಸಖಂಡಗಳು
 (C) ಆರ್ಕಿಟೆಕ್ಚರ್ (D) ವಿಜ್ಞಾನ ಭಾಷೆಗಳು

Question Id : 16

17. ಮಾನವನ ಅಸ್ತಿಪಂಜರದಲ್ಲಿ ಈಗಾಗಲೇ ಹೆಸರಿಸಲಾಗಿರುವ ಮೂಳೆಗಳ ಸಂಖ್ಯೆ
 (A) 200 (B) 206
 (C) 212 (D) 218

Question Id : 17

18. The unit of current is
(A) Ohm (B) Watt
(C) Ampere (D) Joule

Question Id : 18

19. When light passes from air into glass it experiences change of
(A) Frequency and Wavelength
(B) Frequency and Speed
(C) Wavelength and Speed
(D) Frequency, Wavelength and Speed

Question Id : 19

20. The World Diabetes Day is
(A) 14th November (B) 11th December
(C) 15th October (D) 1st July

Question Id : 20

21. The first development flight of SLV-3 took place on
(A) May 31, 1981 (B) April 17, 1983
(C) December 21, 1999
(D) December 28, 1995

Question Id : 21

22. The Industrial Organisation of Atomic Minerals Division, Heavy Water Board (HWB) is located at
(A) Kolkata (B) Mumbai
(C) Hyderabad (D) Chennai

Question Id : 22

23. One Ounce is
(A) 25 gms (B) 24 gms
(C) 26 gms (D) 28 gms

Question Id : 23

24. Barometer is used to measure
(A) Thermal Radiation (B) Fat in Milk
(C) Atmospheric Pressure
(D) Amount of heat

Question Id : 24

18. ಕರೆಂಟ್ ನ ಯೂನಿಟ್ ನ್ನು ಹೀಗೆ ಕರೆಯುತ್ತಾರೆ
(A) ಓಹಮ್ (ohm) (B) Watt (ವಾಟ್)
(C) ಆಮ್ಪೀಯರ್ (D) ಜೂಲ್ (Joule)

Question Id : 18

19. ಗಾಳಿಯಿಂದ ಗಾಜಿಗೆ ಹಾಯುವಾಗ ಬೆಳಕು ಕೆಳಗಿನ ಬದಲಾವಣೆಯನ್ನು ಅನುಭವಿಸುತ್ತದೆ
(A) ಫ್ರೀಕ್ವೆನ್ಸಿ ಮತ್ತು ವೇವ್ ಲೆನ್ಥ್
(B) ಫ್ರೀಕ್ವೆನ್ಸಿ ಮತ್ತು ವೇಗ
(C) ವೇವ್ ಲೆನ್ಥ್ ಮತ್ತು ವೇಗ
(D) ಫ್ರೀಕ್ವೆನ್ಸಿ, ವೇವ್ ಲೆನ್ಥ್ ಮತ್ತು ವೇಗ

Question Id : 19

20. ಜಾಗತಿಕ ಮದುಮೇಹ ದಿನ
(A) 14 ನವೆಂಬರ್ (B) 11 ಡಿಸೆಂಬರ್
(C) 15 ಅಕ್ಟೋಬರ್ (D) 1 ಜುಲೈ

Question Id : 20

21. SLV-3 ರ ಪ್ರಥಮ ಡೆವಲಪ್‌ಮೆಂಟ್ ಫ್ಲೈಟ್ ಇಂದು ನಡೆಯಿತು
(A) ಮೇ 31, 1981 (B) ಏಪ್ರಿಲ್ 17, 1983
(C) ಡಿಸೆಂಬರ್ 21, 1999 (D) ಡಿಸೆಂಬರ್ 28, 1995

Question Id : 21

22. ದಿ ಇಂಡಸ್ಟ್ರಿಯಲ್ ಆರ್ಗನೈಸೇಶನ್ ಆಫ್ ಅಟಾಮಿಕ್ ಮಿನರಲ್ಸ್ ಡಿವಿಷನ್, ಹೆವಿ ವಾಟರ್ ಬೋರ್ಡ್ (HWB) ಇಲ್ಲಿದೆ
(A) ಕೋಲ್ಕತಾ (B) ಮುಂಬೈ
(C) ಹೈದರಾಬಾದ್ (D) ಚೆನ್ನೈ

Question Id : 22

23. ಒಂದು ಔನ್ಸ್ ಎಂದರೆ
(A) 25 ಗ್ರಾಂ (B) 24 ಗ್ರಾಂ
(C) 26 ಗ್ರಾಂ (D) 28 ಗ್ರಾಂ

Question Id : 23

24. ಬಾರೋಮೀಟರ್‌ನ್ನು ಇದನ್ನು ಅಳೆಯಲು ಉಪಯೋಗಿಸುತ್ತಾರೆ
(A) ಥರ್ಮಲ್ ರೇಡಿಯೇಶನ್ (B) ಹಾಲಿನ ಕೊಬ್ಬು
(C) ವಾತಾವರಣ ಒತ್ತಡ
(D) ತಾಪದ (ಹೀಟ್ ನ) ಪ್ರಮಾಣ

Question Id : 24

25. If a ship moves from fresh water into sea-water, it will
 (A) Sink completely (B) Rise a little higher
 (C) Sink a little bit (D) Remain unaffected

Question Id : 25

26. The inventor of Telescope is
 (A) Galileo (B) Gutenberg
 (C) Edison (D) Graham Bell

Question Id : 26

27. The smallest unit of computer data is
 (A) Byte (B) Bit
 (C) Record (D) File

Question Id : 27

28. The Michele Anjelo Virus is
 (A) A cancerous virus
 (B) A cancer protective virus
 (C) Viruses that spread in rats
 (D) A computer virus

Question Id : 28

29. Which of the following has maximum protein ?
 (A) Gram (B) Pea
 (C) Soyabean (D) Pigeon pea

Question Id : 29

30. The largest living mammalian is
 (A) Giraffe (B) Blue Whale
 (C) Camel (D) Man

Question Id : 30

31. Harappa is located on the bank of the river
 (A) Ganga (B) Mahanadi
 (C) Ravi (D) None of these

Question Id : 31

32. 'PurushaSukta' is found as part of the
 (A) Rigveda (B) Samveda
 (C) Yajurveda (D) Atharva Veda

Question Id : 32

25. ಶುದ್ಧ ನೀರಿನಿಂದ (ಮಳೆ ನೀರು) ಸಮುದ್ರ ನೀರಿಗೆ ಹಡಗೊಂದು ಹೋದರೆ
 (A) ಅದು ಸಂಪೂರ್ಣವಾಗಿ ಮುಳುಗುತ್ತದೆ
 (B) ಸ್ವಲ್ಪ ಮೇಲೇರುತ್ತದೆ
 (C) ಸ್ವಲ್ಪ ಮುಳುಗುತ್ತದೆ
 (D) ಏನೂ ಆಗದೆ ಹಾಗೇ ಇರುತ್ತದೆ

Question Id : 25

26. ಟೆಲಿಸ್ಕೋಪ್ ಕಂಡು ಹಿಡಿದವರು
 (A) ಗೆಲಿಲಿಯೊ (B) ಗುಟೆನ್‌ಬರ್ಗ್
 (C) ಎಡಿಸನ್ (D) ಗ್ರಹಾಂ ಬೆಲ್

Question Id : 26

27. ಕಂಪ್ಯೂಟರ್ ಡಾಟಾ ದ ಅತಿ ಸಣ್ಣ ಯೂನಿಟ್
 (A) ಬೈಟ್ (B) ಬಿಟ್
 (C) ರೆಕಾರ್ಡ್ (D) ಫೈಲ್

Question Id : 27

28. ಮೈಕೆಲೆಂಜಲೊ ವೈರಸ್ ಒಂದು
 (A) ಕ್ಯಾನ್ಸರ್ ವೈರಸ್
 (B) ಕ್ಯಾನ್ಸರ್ ಪ್ರೊಟೆಕ್ಟಿವ್ ವೈರಸ್
 (C) ಇಲಿಗಳಲ್ಲಿ ಹರಡುವ ವೈರಸ್
 (D) ಕಂಪ್ಯೂಟರ್ ವೈರಸ್

Question Id : 28

29. ಕೆಳಗಿನ ಯಾವುದರಲ್ಲಿ ಪ್ರೋಟೀನ್ ಹೆಚ್ಚಿದೆ ?
 (A) ಬೇಳೆ (B) ಬಟಾಣಿ
 (C) ಸೋಯಾಬೀನ್ (D) ಪಿಜನ್ ಪೀ

Question Id : 29

30. ಬದುಕುಳಿದಿರುವ ಅತಿದೊಡ್ಡ ಸಸ್ತನಿ
 (A) ಜಿರಾಫೆ (B) ನೀಲಿ ತಿಮಿಂಗಿಲ
 (C) ಒಂಟೆ (D) ಮಾನವ

Question Id : 30

31. ಹರಪ್ಪ ನೆಲೆಯು ಇರುವುದು ಯಾವ ನದಿ ದಂಡೆಯ ಮೇಲೆ
 (A) ಗಂಗಾ (B) ಮಹಾನದಿ
 (C) ರವಿ (D) ಇವುಗಳಲ್ಲಿ ಯಾವುದೂ ಅಲ್ಲ

Question Id : 31

32. ಪುರುಷ ಸೂಕ್ತವು _____ ನ ಭಾಗವಾಗಿ ಕಾಣಿಸಿಕೊಳ್ಳುತ್ತದೆ.
 (A) ಋಗ್ವೇದ (B) ಸಾಮವೇದ
 (C) ಯಜುರ್ವೇದ (D) ಅಥರ್ವವೇದ

Question Id : 32

33. Hathigumpā inscription was issued by
 (A) Bimbisara (B) Kharavela
 (C) Udayin
 (D) Mahāpadma Nanda

Question Id : 33

34. Which of the following Chalukyan city was known as the city of temples ?
 (A) Badami (B) Pattadakal
 (C) Aihole (D) Kanheri

Question Id : 34

35. Who among the following conquered Java and Sumatra ?
 (A) Rajaraja Chola I (B) Rajendra Chola I
 (C) Samudragupta (D) Krishna I

Question Id : 35

36. The Italian traveller who left a praiseworthy description of the Vijayanagara empire was
 (A) Barbosa (B) Marco polo
 (C) Tome Pires (D) Nicolo Conti

Question Id : 36

37. The Ain-I-Akbari was written by
 (A) Akbar (B) Ibn Batuta
 (C) Abul Fazal (D) Birbal

Question Id : 37

38. Ramanujacharya is associated with
 (A) Advaita Philosophy (B) Dvaita Philosophy
 (C) Vishistadvaita Philosophy
 (D) Shakti Vishistadvaita Philosophy

Question Id : 38

39. The main factor that contributed to the final success of the British against other European Powers in India was
 (A) Good relations with the Indian rulers
 (B) Naval Superiority
 (C) Improved Quality of Merchandise
 (D) None of these

Question Id : 39

33. ಹಾಥಿಗುಂಪ ಶಾಸನವನ್ನು ಹಾಕಿಸಿದವನು
 (A) ಬಿಂಬಿಸಾರ (B) ಖಾರವೇಲ
 (C) ಉದಯಿನ್ (D) ಮಹಾಪದ್ಮನಂದ

Question Id : 33

34. ಈ ಕೆಳಗಿನ ಯಾವ ಚಾಲುಕ್ಯರ ನಗರವನ್ನು ದೇವಾಲಯಗಳ ನಗರ ಎಂದು ಪರಿಗಣಿಸಲಾಗಿದೆ ?
 (A) ಬಾದಾಮಿ (B) ಪಟ್ಟದಕಲ್ಲು
 (C) ಐಹೊಳೆ (D) ಕಾನ್ಹೇರಿ

Question Id : 34

35. ಈ ಕೆಳಗಿನ ಯಾರು ಜಾವಾ ಮತ್ತು ಸುಮಾತ್ರಗಳನ್ನು ವಶಪಡಿಸಿಕೊಂಡರು ?
 (A) ಒಂದನೇ ರಾಜರಾಜ ಚೋಳ
 (B) ಒಂದನೇ ರಾಜೇಂದ್ರ ಚೋಳ
 (C) ಸಮುದ್ರಗುಪ್ತ (D) ಒಂದನೇ ಕೃಷ್ಣ

Question Id : 35

36. ವಿಜಯನಗರ ಸಾಮ್ರಾಜ್ಯವನ್ನು ಕುರಿತಂತೆ ಹೊಗಳಿರುವ ಇಟಲಿಯ ಯಾತ್ರಿಕ
 (A) ಬಾರ್ಬೋಸ (B) ಮಾರ್ಕೊ ಪೊಲೊ
 (C) ಟೋಮೆ ಪೈರ್ಸ್ (D) ನಿಕೊಲೊ ಕಾಂಟಿ

Question Id : 36

37. ಐನ್-ಐ-ಅಕ್ಬರಿ ಯನ್ನು ಬರೆದವನು
 (A) ಅಕ್ಬರ್ (B) ಇಬ್ನ್ ಬತೂತ
 (C) ಅಬುಲ್ ಫಜಲ್ (D) ಬೀರ್ಬಲ್

Question Id : 37

38. ರಾಮಾನುಜಾಚಾರ್ಯರು ಪ್ರತಿಪಾದಿಸಿದ ಸಿದ್ಧಾಂತ
 (A) ಅದ್ವೈತ ಸಿದ್ಧಾಂತ (B) ದ್ವೈತ ಸಿದ್ಧಾಂತ
 (C) ವಿಶಿಷ್ಟಾದ್ವೈತ ಸಿದ್ಧಾಂತ (D) ಶಕ್ತಿ ವಿಶಿಷ್ಟಾದ್ವೈತ ಸಿದ್ಧಾಂತ

Question Id : 38

39. ಭಾರತದಲ್ಲಿ ಇತರೆ ಯುರೋಪಿಯನ್ ಶಕ್ತಿಗಳ ಮೇಲೆ ಬ್ರಿಟಿಷರು ಕೊನೆಯಲ್ಲಿ ಯಶಸ್ಸನ್ನು ಪಡೆಯುವುದಕ್ಕೆ ಇದ್ದ ಪ್ರಮುಖ ಕಾರಣ
 (A) ಭಾರತದ ರಾಜರೊಂದಿಗೆ ಉತ್ತಮ ಸಂಬಂಧ
 (B) ಉತ್ಕೃಷ್ಟ ಮಟ್ಟದ ನೌಕಾಶಕ್ತಿ
 (C) ಉತ್ಕೃಷ್ಟ ಗುಣಮಟ್ಟದ ವ್ಯಾಪಾರಿ ಪರಿಕರಗಳು
 (D) ಇವುಗಳಲ್ಲಿ ಯಾವುದೂ ಅಲ್ಲ

Question Id : 39

40. The Act which facilitated the free entry to Christian Missions to India was
 (A) The Regulating Act, 1773
 (B) The Pitt's India Act, 1784
 (C) The Charter Act of 1793
 (D) The Charter Act of 1813

Question Id : 40

41. 'Satya Shodhak Samaj' was started by
 (A) Jyotiba Phule (B) Periyar
 (C) M.C. Raja (D) Dr. B.R. Ambedkar

Question Id : 41

42. Age of consent Act, 1891 was related to
 (A) Widow Remarriages
 (B) Child Marriages
 (C) Divorce (D) None of these

Question Id : 42

43. The famous Kakori Robbery incident took place in the year
 (A) 1921 (B) 1925
 (C) 1931 (D) 1935

Question Id : 43

44. The 'Communal Award' issued after the Second Round Table Conference was issued by
 (A) Lord Simon (B) Edwin Montague
 (C) Lord Irwin
 (D) Ramsay Mac Donald

Question Id : 44

45. The Vaikom Satyagraha was organised in the year
 (A) 1921 (B) 1922
 (C) 1923 (D) 1924

Question Id : 45

46. In general the most destructive earthquake waves are :
 (A) P waves (B) S waves
 (C) Surface waves (D) P & S waves

Question Id : 46

40. ಈ ಕೆಳಗಿನ ಯಾವ ಕಾಯ್ದೆಯು ಕ್ರೈಸ್ತ ಮಿಷನರಿ ಸಂಸ್ಥೆಗಳಿಗೆ ಭಾರತಕ್ಕೆ ಮುಕ್ತ ಪ್ರವೇಶವನ್ನು ಕಲ್ಪಿಸಿತು ?
 (A) ರೆಗ್ಯುಲೇಟಿಂಗ್ ಕಾಯ್ದೆ 1773
 (B) ಪಿಟ್ ಇಂಡಿಯಾ ಕಾಯ್ದೆ 1784
 (C) ಚಾರ್ಟರ್ ಕಾಯ್ದೆ 1793 (D) ಚಾರ್ಟರ್ ಕಾಯ್ದೆ 1813

Question Id : 40

41. ಸತ್ಯಶೋಧಕ ಸಮಾಜ ವನ್ನು ಸ್ಥಾಪಿಸಿದವರು
 (A) ಜ್ಯೋತಿಬಾ ಫುಲೆ (B) ಪೆರಿಯಾರ್
 (C) ಎಂ.ಸಿ. ರಾಜ
 (D) ಡಾ. ಬಿ.ಆರ್. ಅಂಬೇಡ್ಕರ್

Question Id : 41

42. 1891 ರ ಏಜ್ ಆಫ್ ಕನ್ಸೆಂಟ್ ಕಾಯ್ದೆಯು ಸಂಬಂಧಪಟ್ಟಿದ್ದದ್ದು
 (A) ವಿಧವಾ ಪುನರ್ ವಿವಾಹಗಳಿಗೆ
 (B) ಬಾಲ್ಯ ವಿವಾಹಗಳಿಗೆ
 (C) ವಿಚ್ಛೇದನ
 (D) ಇವುಗಳಲ್ಲ ಯಾವುದೂ ಅಲ್ಲ

Question Id : 42

43. ಪ್ರಸಿದ್ಧ ಕಾಕೋರಿ ದರೋಡೆ ಘಟನೆ ನಡೆದ ವರ್ಷ
 (A) 1921 (B) 1925
 (C) 1931 (D) 1935

Question Id : 43

44. ಎರಡನೇ ದುಂಡು ಮೇಜು ಸಮ್ಮೇಳನದ ನಂತರ ಮತೀಯ ಮಸೂದೆ ಯ ಆಜ್ಞೆಯನ್ನು ಹೊರಡಿಸಿದವನು
 (A) ಲಾರ್ಡ್ ಸೈಮನ್ (B) ಎಡ್ವಿನ್ ಮಾಂಟಗ್ಯೂ
 (C) ಲಾರ್ಡ್ ಇರ್ವಿನ್
 (D) ರಾಮ್ಸ್ ಮ್ಯಾಕ್ ಡೋನಾಲ್ಡ್

Question Id : 44

45. ವೈಕಂ ಸತ್ಯಾಗ್ರಹವನ್ನು ಸಂಘಟಿಸಿದ ವರ್ಷ
 (A) 1921 (B) 1922
 (C) 1923 (D) 1924

Question Id : 45

46. ಸಾಮಾನ್ಯವಾಗಿ ಅತಿ ಹಾನಿಕರ ಭೂಕಂಪದ ಅಲೆಗಳು ಎಂದರೆ
 (A) P ಅಲೆಗಳು (B) S ಅಲೆಗಳು
 (C) ಸರ್ಫೇಸ್ ಅಲೆಗಳು (D) P ಮತ್ತು S ಅಲೆಗಳು

Question Id : 46

47. Tadoba National Park is located in
 (A) Assam (B) Maharashtra
 (C) Karnataka (D) Tamil Nadu

Question Id : 47

48. The sea of Tranquility and 'the Ocean of Storms' are features that are visible in which celestial bodies ?
 (A) Mars (B) Venus
 (C) Moon (D) Sun

Question Id : 48

49. The oldest rocks in India are reported from
 (A) Azmer region, Rajasthan
 (B) Dharwar region, Karnataka
 (C) Vindhyan range, Madhya Pradesh
 (D) Siwalik Range, Punjab

Question Id : 49

50. The only state in India that produces saffron is
 (A) Meghalaya (B) Himachal Pradesh
 (C) West Bengal (D) Jammu & Kashmir

Question Id : 50

51. Huge congregation of stars that are held together by the force of gravity are known as :
 (A) Solar System (B) Constellations
 (C) Comets (D) Galaxies

Question Id : 51

52. The oldest oil refinery in India is at
 (A) Jamnagar (B) Digboi
 (C) Paradeep (D) Koyalli

Question Id : 52

53. The headquarters of North Western Railway is located in
 (A) Jaipur (B) Udaipur
 (C) Chandigarh (D) Gwalior

Question Id : 53

54. Largest salt lake in the world
 (A) Lake superior (B) Lake Huron
 (C) Lake Caspian (D) Chilka Lake

Question Id : 54

47. ತಡೋಬಾ ರಾಷ್ಟ್ರೀಯ ಧಾಮವು ಇಲ್ಲಿದೆ
 (A) ಅಸ್ಸಾಂ (B) ಮಹಾರಾಷ್ಟ್ರ
 (C) ಕರ್ನಾಟಕ (D) ತಮಿಳುನಾಡು

Question Id : 47

48. ಸೀ ಆಫ್ ಟ್ರಾಂಕ್ವಿಲಿಟಿ ಮತ್ತು ದಿ ಓಸಿಯನ್ ಆಫ್ ಸ್ಟೋರ್ಮ್ಸ್ ಲಕ್ಷಣಗಳು ಈ ಗ್ರಹ / ಉಪಗ್ರಹದಲ್ಲಿ ಕಾಣಿಸುತ್ತವೆ.
 (A) ಮಂಗಳ (B) ಶುಕ್ರ
 (C) ಚಂದ್ರ (D) ಸೂರ್ಯ

Question Id : 48

49. ಭಾರತದಲ್ಲಿ ಅತೀ ಪ್ರಾಚೀನವಾದ ಶಿಲೆ ಇಲ್ಲಿ ದೊರೆತಿದೆ
 (A) ಅಜ್ಮೀರ್ ಪ್ರಾಂತ್ಯ - ರಾಜಸ್ಥಾನ
 (B) ಧಾರವಾಡ ಪ್ರಾಂತ್ಯ - ಕರ್ನಾಟಕ
 (C) ವಿಂಧ್ಯನ್ ರೇಂಜ್ - ಮಧ್ಯ ಪ್ರದೇಶ
 (D) ಶಿವಾಲಿಕ್ ರೇಂಜ್ - ಪಂಜಾಬ್

Question Id : 49

50. ಕೇಸರ್ (saffron) ಬೆಳೆಯುವ ಏಕೈಕ ರಾಜ್ಯ
 (A) ಮೇಘಾಲಯ (B) ಹಿಮಾಚಲ ಪ್ರದೇಶ
 (C) ಪಶ್ಚಿಮ ಬಂಗಾಳ (D) ಜಮ್ಮು ಮತ್ತು ಕಾಶ್ಮೀರ

Question Id : 50

51. ಗುರುತ್ವಾಕರ್ಷಣೆಯ ಶಕ್ತಿಯಿಂದಾಗಿ ಬೃಹತ್ ಸಂಖ್ಯೆಯ ತಾರೆಗಳನ್ನು ಹಿಡಿದುಕೊಳ್ಳುವುದು
 (A) ಸೋಲಾರ್ ಸಿಸ್ಟಮ್ (B) ಕಾನ್ಸ್ಟೆಲೇಷನ್ಸ್
 (C) ಕಾಮೆಟ್ಸ್ (D) ಗ್ಯಾಲಾಕ್ಸಿ

Question Id : 51

52. ಭಾರತದಲ್ಲಿ ಅತಿ ಹಳೆಯ ತೈಲ ಸಂಸ್ಕರಣ ಘಟಕ (oil refinery)
 (A) ಜಾಮನಗರ (B) ಡಿಗ್ಬೊಯಿ
 (C) ಪಾರದೀಪ್ (D) ಕೊಯಲ್ಲಿ

Question Id : 52

53. ವಾಯುವ್ಯ ರೈಲ್ವೆಯ ಕೇಂದ್ರ ಸ್ಥಳವು
 (A) ಜೈಪುರ (B) ಉದಯಪುರ
 (C) ಚಂಡೀಗಢ (D) ಗ್ವಾಲಿಯರ್

Question Id : 53

54. ಜಗತ್ತಿನಲ್ಲಿಯೇ ಅತಿ ವಿಸ್ತಾರವಾದ ಉಪ್ಪಿನ ಸರೋವರ
 (A) ಸುಪೀರಿಯರ್ ಸರೋವರ (B) ಹುರಾನ್ ಸರೋವರ
 (C) ಕ್ಯಾಸ್ಪಿಯನ್ ಸರೋವರ (D) ಚಿಲ್ಕಾ ಸರೋವರ

Question Id : 54

55. Which of the following are Kharif Crops ?

- i. Cotton
- ii. Groundnut
- iii. Paddy
- iv. Wheat

- (A) iii only (B) i & iii only
(C) iv only (D) i, ii and iii

Question Id : 55

56. The largest producers of coffee in the world is

- (A) India (B) Brazil
(C) China (D) USA

Question Id : 56

57. World Water Day is observed on

- (A) 22nd December (B) 22nd March
(C) 18th April (D) 10th May

Question Id : 57

58. Consider the following pairs, which are correct pairs ?

- i. Garba : Gujarat
- ii. Yakshagana : Karnataka
- iii. MohiniNatyam : Odisha

- (A) i only (B) i & ii only
(C) iii only (D) i, ii and iii

Question Id : 58

59. Wild Ass Sanctuary is situated in

- (A) Mizoram (B) West Bengal
(C) Gujarat (D) Rajasthan

Question Id : 59

60. The Western Ghats are also known as

- (A) Nilagiris (B) The Vindya Range
(C) Sivalik Range (D) The Sahyadris

Question Id : 60

61. Freedom park in Bangalore is NOT meant for

- (A) Place for agitation
(B) Exhibition of Old Jail
(C) Place for Market (D) Park

Question Id : 61

55. ಕೆಳಗಿನ ಯಾವುವು ಮುಂಗಾರು ಬೆಳೆಗಳು (Kharif Crops) ?

- i. ಹತ್ತಿ
- ii. ಶೇಂಗಾ
- iii. ಭತ್ತ
- iv. ಗೋಧಿ

- (A) iii ಮಾತ್ರ (B) i ಮತ್ತು iii ಮಾತ್ರ
(C) iv ಮಾತ್ರ (D) i, ii ಮತ್ತು iii

Question Id : 55

56. ಜಗತ್ತಿನಲ್ಲಿ ಅತಿ ಹೆಚ್ಚು ಕಾಫಿ ಬೆಳೆಯುವ ದೇಶ

- (A) ಭಾರತ (B) ಬ್ರೆಜಿಲ್
(C) ಚೀನಾ (D) ಯು.ಎಸ್.ಎ.

Question Id : 56

57. ಜಗತ್ತಿನ ಜಲದಿನ (Water Day) ವನ್ನು _____ ರಂದು ಆಚರಿಸಲಾಗುತ್ತದೆ.

- (A) ಡಿಸೆಂಬರ್ 22 (B) ಮಾರ್ಚ್ 22
(C) ಏಪ್ರಿಲ್ 18 (D) ಮೇ 10

Question Id : 57

58. ಕೆಳಗಿನ ಜೋಡಿಗಳಲ್ಲಿ ಯಾವುದು ಸರಿಯಾಗಿದೆ / ವೆ ?

- i. ಗರ್ಬಾ : ಗುಜರಾತ್
- ii. ಯಕ್ಷಗಾನ : ಕರ್ನಾಟಕ
- iii. ಮೋಹಿನಿನಾಟ್ಯಂ : ಓಡಿಸಾ

- (A) i ಮಾತ್ರ (B) i ಮತ್ತು ii ಮಾತ್ರ
(C) iii ಮಾತ್ರ (D) i, ii ಮತ್ತು iii

Question Id : 58

59. ಕಾಡುಕತ್ತೆ ಧಾಮವು _____ ಇಲ್ಲಿದೆ.

- (A) ಮಿಜೋರಾಂ (B) ಪಶ್ಚಿಮ ಬಂಗಾಳ
(C) ಗುಜರಾತ್ (D) ರಾಜಸ್ಥಾನ

Question Id : 59

60. ಪಶ್ಚಿಮ ಘಟ್ಟಗಳನ್ನು ಹೀಗೂ ಕರೆಯಲಾಗುತ್ತದೆ

- (A) ನೀಲಗಿರಿಸ್ (B) ವಿಂಧ್ಯಾ ಶ್ರೇಣಿ
(C) ಶಿವಾಲಿಕ್ ಶ್ರೇಣಿ (D) ಸಹ್ಯಾದ್ರಿಸ್

Question Id : 60

61. ಬೆಂಗಳೂರಿನಲ್ಲಿರುವ ಸ್ವಾತಂತ್ರ್ಯ ಉದ್ಯಾನವು ಯಾವುದಕ್ಕೆ ಮೀಸಲಾಗಿಲ್ಲ ?

- (A) ಆಂದೋಲನಕ್ಕೆ ಸ್ಥಳ (B) ಹಳೆಯ ಜೈಲಿನ ಪ್ರದರ್ಶನ
(C) ಮಾರುಕಟ್ಟೆಗೆ ಸ್ಥಳ (D) ಉದ್ಯಾನ

Question Id : 61

62. As per India's Census 2011, the sex ratio was _____ female per 1000 male.
 (A) 950 (B) 960
 (C) 940 (D) 970

Question Id : 62

63. Identify the decadal growth of literacy in India from 1981 to 2011.
 (A) 44, 54, 64, 74 (B) 40, 51, 62, 72
 (C) 43, 54, 62, 74 (D) 44, 52, 65, 74

Question Id : 63

64. Life expectancy in India has increased from _____ in 2001 to _____ in 2011.
 (A) 61 to 63 (B) 59 to 62
 (C) 62 to 64 (D) 63 to 66

Question Id : 64

65. According to Indian Census 2011, what percentage of Indian population resides in urban areas ?
 (A) 29% (B) 31%
 (C) 24% (D) 30%

Question Id : 65

66. Match the following Ox race festival with states :

Festival Name State

1.Jallikattu a.Karnataka

2.Maramadi b.Tamil Nadu

3.Kambala c.Kerala

4.Bailpola d.Maharashtra

(A) 1-a, 2-c, 3-a, 4-d (B) 1-b, 2-d, 3-c, 4-a

(C) 1-d, 2-a, 3-c, 4-b (D) 1-b, 2-c, 3-a, 4-d

Question Id : 66

67. The slogan for New Education Policy is
 (A) Educate, Encourage and Enlighten
 (B) Educate, Evaluate and Earn
 (C) Educate, Emancipate and Evaluate
 (D) Educate, Evaluate and Employment

Question Id : 67

62. ಭಾರತೀಯ ಜನಗಣತಿ 2011 ರ ಪ್ರಕಾರ ಲೈಂಗಿಕ ಅನುಪಾತವು 1000 ಪುರುಷರಿಗೆ ಎಷ್ಟು ಸ್ತ್ರೀಯರು ?
 (A) 950 (B) 960
 (C) 940 (D) 970

Question Id : 62

63. ಭಾರತದಲ್ಲಿ 1981 ರಿಂದ 2011 ರವರೆಗಿನ ದಶಕದ ಸಾಕ್ಷರತೆಯ ಬೆಳವಣಿಗೆಯನ್ನು ಗುರುತಿಸಿ.
 (A) 44, 54, 64, 74 (B) 40, 51, 62, 72
 (C) 43, 54, 62, 74 (D) 44, 52, 65, 74

Question Id : 63

64. ಭಾರತದಲ್ಲಿ ಜೀವಿತಾವಧಿ 2001 ರಲ್ಲಿ _____ ರಿಂದ 2011 ರಲ್ಲಿ _____ ಕ್ಕೆ ಹೆಚ್ಚಿದೆ.
 (A) 61 ರಿಂದ 63 (B) 59 ರಿಂದ 62
 (C) 62 ರಿಂದ 64 (D) 63 ರಿಂದ 66

Question Id : 64

65. ಭಾರತೀಯ ಜನಗಣತಿ 2011 ರ ಪ್ರಕಾರ ಭಾರತೀಯ ಜನಸಂಖ್ಯೆಯ ಎಷ್ಟು ಶೇಕಡಾ ನಗರ ಪ್ರದೇಶದಲ್ಲಿ ವಾಸಿಸುತ್ತಾರೆ ?
 (A) 29% (B) 31%
 (C) 24% (D) 30%

Question Id : 65

66. ಈ ಕೆಳಗಿನ ಎತ್ತುಗಳ ಓಟದ ಉತ್ಸವವನ್ನು ರಾಜ್ಯಗಳಿಗೆ ಅನುಗುಣವಾಗಿ ಹೋಲಿಸಿ :

ಉತ್ಸವದ ಹೆಸರು ರಾಜ್ಯ

1.ಜಲ್ಲಿಕಟ್ಟು a.ಕರ್ನಾಟಕ

2.ಮಾರಮಡಿ b.ತಮಿಳುನಾಡು

3.ಕಂಬಾಲ c.ಕೇರಳ

4.ಬೈಲಪೊಲ d.ಮಹಾರಾಷ್ಟ್ರ

(A) 1-a, 2-c, 3-a, 4-d (B) 1-b, 2-d, 3-c, 4-a

(C) 1-d, 2-a, 3-c, 4-b (D) 1-b, 2-c, 3-a, 4-d

Question Id : 66

67. ಹೊಸ ಶಿಕ್ಷಣ ನೀತಿಯ ಘೋಷಣೆಯು
 (A) ಶಿಕ್ಷಣ, ಪ್ರೋತ್ಸಾಹ ಮತ್ತು ಜ್ಞಾನೋದಯ
 (B) ಶಿಕ್ಷಣ, ಮೌಲ್ಯಮಾಪನ ಮತ್ತು ಸಂಪಾದನೆ
 (C) ಶಿಕ್ಷಣ, ವಿಮೋಚನೆ ಮತ್ತು ಮೌಲ್ಯಮಾಪನ
 (D) ಶಿಕ್ಷಣ, ಮೌಲ್ಯಮಾಪನ ಮತ್ತು ಉದ್ಯೋಗ

Question Id : 67

68. Which is the 23rd State of India ?
 (A) Kerala (B) Meghalaya
 (C) Manipur (D) Mizoram

Question Id : 68

69. Which day is observed on 1st July ?
 (A) International Family Day
 (B) International Day of Co-operatives
 (C) International Day of Health
 (D) International Day of Happiness

Question Id : 69

70. Abbey falls can be found in which of the following geographical locations ?
 (A) Nilgiri Mountains (B) Eastern Mountains
 (C) Western Ghats (D) Himalayas

Question Id : 70

71. What is the time required to punch 1500 cards of 45 column each at the rate of 9000 punches per hour ?
 (A) 8 hrs (B) 7 hrs 15 min
 (C) 7 hrs 30 min (D) 8 hrs 20 min

Question Id : 71

72. How many letters of the English alphabet (Capitals) appear same when looked at in a mirror ?
 (A) 9 (B) 10
 (C) 11 (D) 12

Question Id : 72

73. What is the smallest number of ducks that could swim in this formation "Two ducks in front of a duck, two ducks behind a duck and a duck between two ducks" ?
 (A) 3 (B) 5
 (C) 7 (D) 9

Question Id : 73

68. ಭಾರತದ 23 ನೆಯ ರಾಜ್ಯವಾಗಿದ್ದು ಯಾವುದು ?
 (A) ಕೇರಳ (B) ಮೇಘಾಲಯ
 (C) ಮಣಿಪುರ (D) ಮಿಜೋರಾಮ್

Question Id : 68

69. ಜುಲೈ 1 ನ್ನು ಯಾವ ದಿನವೆಂದು ಆಚರಿಸಲಾಗುವುದು ?
 (A) ಅಂತರರಾಷ್ಟ್ರೀಯ ಕುಟುಂಬ ದಿನ
 (B) ಅಂತರರಾಷ್ಟ್ರೀಯ ಸಹಕಾರ ಸಂಘದ ದಿನ
 (C) ಅಂತರರಾಷ್ಟ್ರೀಯ ಆರೋಗ್ಯ ದಿನ
 (D) ಅಂತರರಾಷ್ಟ್ರೀಯ ಸಂತೋಷದ ದಿನ

Question Id : 69

70. ಈ ಕೆಳಗಿನ ಯಾವ ಭೌಗೋಳಿಕ ಸ್ಥಳಗಳಲ್ಲಿ ಅಬ್ಬೆ ಜಲಪಾತವನ್ನು ಕಾಣಬಹುದು ?
 (A) ನೀಲಗಿರಿ ಪರ್ವತಗಳು
 (B) ಈಸ್ಟರ್ನ್ (ಪೂರ್ವ) ಪರ್ವತಗಳು
 (C) ಪಶ್ಚಿಮ ಘಟ್ಟಗಳು (D) ಹಿಮಾಲಯ

Question Id : 70

71. ಪ್ರತಿ ಗಂಟೆಗೆ 9000 ಪಂಚ್‌ಗಳನ್ನು ಮಾಡಿದರೆ, 45 ಕಾಲಂ (ಪ್ರತಿ ಕಾರ್ಡ್) ಗಳುಳ್ಳ 1500 ಕಾರ್ಡ್‌ಗಳನ್ನು ಪಂಚ್ ಮಾಡಲು ಬೇಕಾಗುವ ಸಮಯ ಎಷ್ಟು ?
 (A) 8 ಗಂಟೆಗಳು (B) 7 ಗಂಟೆ 15 ನಿಮಿಷ
 (C) 7 ಗಂಟೆ 30 ನಿಮಿಷ (D) 8 ಗಂಟೆ 20 ನಿಮಿಷ

Question Id : 71

72. ಕನ್ನಡಿಯಲ್ಲಿ ಇಂಗ್ಲಿಷ್ ವರ್ಣಮಾಲೆಯ ದೊಡ್ಡ ಅಕ್ಷರಗಳನ್ನು ನೋಡಿದಾಗ ಎಷ್ಟು ಅಕ್ಷರಗಳು ಒಂದೇ ರೀತಿಯಾಗಿ ಕಾಣಿಸುತ್ತವೆ ?
 (A) 9 (B) 10
 (C) 11 (D) 12

Question Id : 72

73. ಒಂದು ಬಾತುಕೋಳಿಯ ಮುಂದೆ 2 ಬಾತುಕೋಳಿಗಳು, ಒಂದು ಬಾತುಕೋಳಿಯ ಹಿಂದೆ 2 ಬಾತುಕೋಳಿಗಳು, ಎರಡು ಬಾತುಕೋಳಿಗಳ ನಡುವೆ ಒಂದು ಬಾತುಕೋಳಿ, ಈ ರೀತಿ ಈಜಿದರೆ ಎಷ್ಟು ಕನಿಷ್ಠ ಸಂಖ್ಯೆಯ ಬಾತುಕೋಳಿಗಳು ಈಜಬಲ್ಲವು ?
 (A) 3 (B) 5
 (C) 7 (D) 9

Question Id : 73

74. Nithin ranks 18th in a class of 49 students.

What is the rank from the last ?

- (A) 31 (B) 18
(C) 32 (D) 19

Question Id : 74

75. Find the possible values of x and y in the series
3, 4, 5, 8, 7, 16, 9, 32, x, y

- (A) 11, 22 (B) 10, 40
(C) 22, 60 (D) 11, 64

Question Id : 75

76. Three numbers are in the ratio 4 : 5 : 6 and their average is 25. The largest number is

- (A) 30 (B) 40
(C) 50 (D) 60

Question Id : 76

77. Arrange the words given below in a meaningful sequence :

1. Presentation
2. Recommendation
3. Arrival
4. Discussion
5. Introduction

- (A) 5, 3, 4, 1, 2 (B) 3, 5, 4, 2, 1
(C) 3, 5, 1, 4, 2 (D) 5, 3, 1, 2, 4

Question Id : 77

78. A bird lover was asked how many birds he had in the basket. He replied that there were all parrots but six, all pigeons but six, and all koel but six.

How many birds he had in the basket in all ?

- (A) 8 (B) 18
(C) 9 (D) 10

Question Id : 78

74. 49 ವಿದ್ಯಾರ್ಥಿಗಳ ತರಗತಿಯಲ್ಲಿ, ನಿತಿನ್ ಎಂಬ ವಿದ್ಯಾರ್ಥಿ 18 ನೇ ರ‍್ಯಾಂಕ್ ಪಡೆದರೆ, ರ‍್ಯಾಂಕ್ ಪಟ್ಟಿಯ ಕೊನೆಯಿಂದ ಆತನ ರ‍್ಯಾಂಕ್ ಎಷ್ಟು ?

- (A) 31 (B) 18
(C) 32 (D) 19

Question Id : 74

75. 3, 4, 5, 8, 7, 16, 9, 32, x, y

ಈ ಸಂಖ್ಯಾ ಶ್ರೇಣಿಯಲ್ಲಿ x ಮತ್ತು y ನ ಸಂಭವನೀಯ ಬೆಲೆಗಳೇನು ?

- (A) 11, 22 (B) 10, 40
(C) 22, 60 (D) 11, 64

Question Id : 75

76. ಮೂರು ಸಂಖ್ಯೆಯ ಅನುಪಾತವು 4 : 5 : 6 ಮತ್ತು ಅದರ ಸರಾಸರಿ 25 ಆದರೆ, ದೊಡ್ಡ ಸಂಖ್ಯೆ ಯಾವುದು ?

- (A) 30 (B) 40
(C) 50 (D) 60

Question Id : 76

77. ಈ ಕೆಳಗೆ ಕೊಟ್ಟಿರುವ ಅಂಗ್ಲಪದಗಳನ್ನು ಅರ್ಥಪೂರ್ಣ ಅನುಕ್ರಮವಾಗಿ ಜೋಡಿಸಿ :

1. ಪ್ರೆಸಂಟೇಷನ್
2. ರೆಕಮೆಂಡೇಷನ್
3. ಅರೈವಲ್
4. ಡಿಸ್ಕಷನ್
5. ಇಂಟ್ರೊಡಕ್ಷನ್

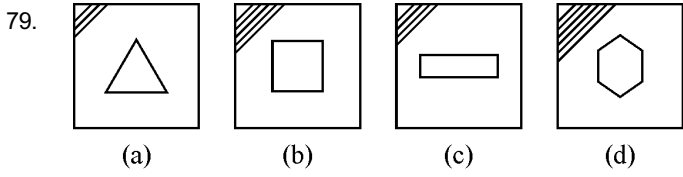
- (A) 5, 3, 4, 1, 2 (B) 3, 5, 4, 2, 1
(C) 3, 5, 1, 4, 2 (D) 5, 3, 1, 2, 4

Question Id : 77

78. ಪಕ್ಷಿ ಪ್ರೇಮಿಯೊಬ್ಬನನ್ನು ಬಾಸ್ಕೆಟ್‌ನಲ್ಲಿ ಎಷ್ಟು ಪಕ್ಷಿಗಳಿವೆಯೆಂದು ಕೇಳಿದಾಗ ಅದಕ್ಕೆ ಆತನು 6 ನ್ನು ಹೊರತುಪಡಿಸಿ, ಎಲ್ಲಾ ಗಿಳಿಗಳು; 6 ನ್ನು ಹೊರತುಪಡಿಸಿ, ಎಲ್ಲಾ ಪಾರಿವಾಳಗಳು, 6 ನ್ನು ಹೊರತುಪಡಿಸಿ, ಎಲ್ಲಾ ಕೋಗಿಲೆಗಳು ಎಂದು ಈ ರೀತಿ ಉತ್ತರಿಸಿದನು. ಹಾಗಾದರೆ, ಆತನ ಬಾಸ್ಕೆಟ್‌ನಲ್ಲಿದ್ದ ಒಟ್ಟು ಪಕ್ಷಿಗಳೆಷ್ಟು ?

- (A) 8 (B) 18
(C) 9 (D) 10

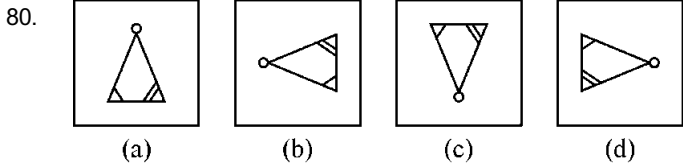
Question Id : 78



In each of the above 4 figures, one of these figures does not fit with the rest of the figures. Find out the correct serial number.

- (A) (a) (B) (b)
(C) (c) (D) (d)

Question Id : 79

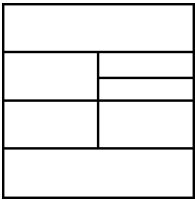


In each of the above four figures, one of these figures does not fit with the rest of the figures. Find out the correct serial number.

- (A) (a) (B) (b)
(C) (c) (D) (d)

Question Id : 80

81. How many minimum number of different colours a painter must use to paint the figure below, so that no two adjacent regions have the same colour ?



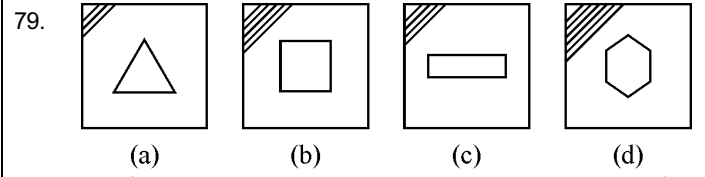
- (A) 1 (B) 3
(C) 4 (D) 5

Question Id : 81

82. CVBAEDEDABEBAUCDBCADBDUBCACBEDA
If all the A's are dropped from the above arrangement, which of the following will be eleventh from the left end of the above arrangement ?

- (A) E (B) C
(C) D (D) U

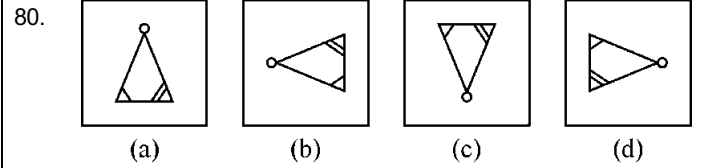
Question Id : 82



ಈ ಮೇಲಿನ 4 ಚಿತ್ರಗಳಲ್ಲಿ, ಒಂದು ಉಳಿದ 3 ಚಿತ್ರಗಳೊಂದಿಗೆ ಹೊಂದಿಕೆಯಾಗುವುದಿಲ್ಲ. ಹೊಂದಿಕೆಯಾಗದ ಚಿತ್ರದ ಕ್ರಮ ಸಂಕೇತ ಬರೆಯಿರಿ.

- (A) (a) (B) (b)
(C) (c) (D) (d)

Question Id : 79

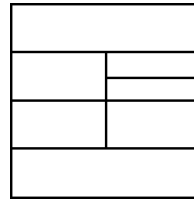


ಈ ಮೇಲಿನ 4 ಚಿತ್ರಗಳಲ್ಲಿ, ಒಂದು ಉಳಿದ 3 ಚಿತ್ರಗಳೊಂದಿಗೆ ಹೊಂದಿಕೆಯಾಗುವುದಿಲ್ಲ. ಹೊಂದಿಕೆಯಾಗದ ಚಿತ್ರದ ಸಂಕೇತವನ್ನು ಬರೆಯಿರಿ.

- (A) (a) (B) (b)
(C) (c) (D) (d)

Question Id : 80

81. ಈ ಮೇಲಿನ ಚಿತ್ರದಲ್ಲಿ ಅಕ್ಕಪಕ್ಕ ಪಾರ್ಶ್ವ ವಲಯಗಳು ಒಂದೇ ಬಣ್ಣ ಹೊಂದದ ಹಾಗೆ, ಬಣ್ಣ ಹಚ್ಚಲು, ಪೈಂಟ್ ಒಬ್ಬನು, ಕನಿಷ್ಠ ಎಷ್ಟು ವಿವಿಧ ಬಣ್ಣಗಳನ್ನು ಬಳಸಬೇಕು ?



- (A) 1 (B) 3
(C) 4 (D) 5

Question Id : 81

82. CVBAEDEDABEBAUCDBCADBDUBCACBEDA
ಈ ಅಕ್ಷರ ಶ್ರೇಣಿಯಲ್ಲಿ ಎಲ್ಲಾ " A " ಗಳನ್ನು ಬಿಟ್ಟರೆ, ಎಡತುದಿಯಿಂದ ಯಾವ ಅಕ್ಷರವು 11 ನೆಯದಾಗುವುದು ?

- (A) E (B) C
(C) D (D) U

Question Id : 82

83. If the sequence of the English alphabets is reversed, then which letter is 7th to the left of 2nd vowel from the right of English alphabet in the new series ?
(A) U (B) V
(C) L (D) M

Question Id : 83

84. Today is Monday. After 61 days, it will be ?
(A) Tuesday (B) Monday
(C) Sunday (D) Saturday

Question Id : 84

85. Four metal rods of lengths 78 cms, 104 cms, 117 cms and 169 cms are to be cut into parts of equal length. Each part must be as long as possible. What is the maximum number of pieces that can be cut ?
(A) 27 (B) 36
(C) 43 (D) 480

Question Id : 85

83. ಇಂಗ್ಲೀಷ್ ವರ್ಣಮಾಲೆಯ ಅನುಕ್ರಮಣಿಕೆಯನ್ನು ರಿವರ್ಸ್ ಬರೆದಾಗ ಬಂದ ನೂತನ ವರ್ಣಮಾಲಾ ಶ್ರೇಣಿಯಲ್ಲಿ ಬಲಬದಿಯಿಂದ 2 ನೇ ಸ್ಥರದ ಎಡಬದಿಗೆ ಬರುವ 7 ನೇ ಅಕ್ಷರ ಯಾವುದು ?
(A) U (B) V
(C) L (D) M

Question Id : 83

84. ಈ ದಿನ ಸೋಮವಾರ, 61 ದಿನಗಳ ನಂತರ ಈ ದಿನವು ಯಾವ ವಾರವಾಗಿರುತ್ತದೆ ?
(A) ಮಂಗಳವಾರ (B) ಸೋಮವಾರ
(C) ಭಾನುವಾರ (D) ಶನಿವಾರ

Question Id : 84

85. 78 ಸೆಂ.ಮೀ, 104 ಸೆಂ.ಮೀ, 117 ಸೆಂ.ಮೀ. ಮತ್ತು 169 ಸೆಂ.ಮೀ. ಉದ್ದದ ಅಳತೆಯುಳ್ಳ 4 ಲೋಹದ ರಾಡ್‌ಗಳನ್ನು ಸಮಾನ ಅಳತೆಯ ಉದ್ದದ ತುಂಡುಗಳಾಗಿ ಕತ್ತರಿಸುವರು. ಕತ್ತರಿಸಿದ ಪ್ರತಿಭಾಗವು ಎಷ್ಟೇ ಉದ್ದವಿರಬಹುದು. ಹಾಗಾದರೆ ಎಷ್ಟು ಗರಿಷ್ಠ ಸಂಖ್ಯೆಯ ಲೋಹದ ತುಂಡುಗಳನ್ನು ಕತ್ತರಿಸಬಹುದು ?
(A) 27 (B) 36
(C) 43 (D) 480

Question Id : 85

MASTER PAPER

86. Choose the word that is nearest in meaning to the word in capitals : BEQUEATH
(A) give (B) receive
(C) forego (D) lose

Question Id : 86

87. Choose the word that is most nearly opposite in meaning to the word in capitals : ARDUOUS
(A) lengthy (B) far-sighted
(C) literate (D) easy

Question Id : 87

88. Choose the pair that completes the meaning of the sentence most appropriately :
In any situation, effective _____ takes place through a _____ of verbal and non-verbal symbols.
(A) message, mixture
(B) communication, combination
(C) exchange, of
(D) planning, implementation

Question Id : 88

89. Select the pair that best expresses a relationship similar to that expressed in the original pair :
AIRCRAFT - COCKPIT
(A) refrigerator - Compressor
(B) Flower - Pollen
(C) Ship - Hull (D) Hall - Stage

Question Id : 89

90. Ali said, "My sister broke her glasses." The reported speech of this sentence is :
(A) Ali said that his sister had broken her glasses.
(B) Ali told his sister broken her glasses.
(C) Ali said to his sister has broken her glasses.
(D) Ali told to his sister broke her glasses.

Question Id : 90

91. He is training a Monkey. The passive Voice form for this sentence is
(A) A monkey is training him.
(B) A monkey is been trained by him.
(C) A monkey is been training by him.
(D) A monkey is being trained by him.

Question Id : 91

92. 'Star Wars' _____ an exceptionally good movie.
(A) are (B) is
(C) has (D) were

Question Id : 92

93. Choose the grammatically correct and meaningful sentence :
(A) I am thinking it will rain.
(B) I am thinked it will rain.
(C) I think it will rain. (D) I thinked it will rain.

Question Id : 93

94. Choose the correct prefix to the word in the brackets to form its opposite.
The conditions in the prison camps in World War II were so _____ (human) that many people died.
(A) in (B) un
(C) dis (D) im

Question Id : 94

95. Her words _____ that she is not interested in the proposal.
(A) implication (B) inference
(C) in turn (D) imply

Question Id : 95

96. Not letting light pass through
(A) transparent (B) opaque
(C) translucent (D) blind

Question Id : 96

97. The teacher was _____ the boy for misbehaving in the class.
(A) angry about (B) angry to
(C) angry with (D) angry for

Question Id : 97

98. Choose the correct meaning of the given Idiom or phrase :

Go the extra mile

- (A) make more effort than expected
- (B) to run faster than others
- (C) to set a record
- (D) make a good effort to run extra miles

Question Id : 98

99. She was scared to ask for a day's leave. The new Manager was as hard as a _____.

- (A) heel
- (B) nose
- (C) tail
- (D) nail

Question Id : 99

100. Between him and _____, there were no secrets.

- (A) me
- (B) I
- (C) mine
- (D) my

Question Id : 100

MASTER PAPER

MASTER PAPER

MASTER PAPER

ಸ್ಪರ್ಧಾತ್ಮಕ ಪರೀಕ್ಷೆ - 2017

ದಿನಾಂಕ ಮತ್ತು ಸಮಯ	ಹುದ್ದೆ	ವಿಷಯ
06-08-2017 ಮ. 2.30 ರಿಂದ 4.30 ರ ವರೆಗೆ	ಸಹಾಯಕ ಕೃಷಿ ಅಧಿಕಾರಿ	ಸಾಮಾನ್ಯ ಜ್ಞಾನ

ಗರಿಷ್ಠ ಅಂಕಗಳು	ಒಟ್ಟು ಅವಧಿ	ಉತ್ತರಿಸಲು ಇರುವ ಗರಿಷ್ಠ ಅವಧಿ
100	120 ನಿಮಿಷಗಳು	90 ನಿಮಿಷಗಳು

ನಿಮ್ಮ ನೋಂದಣಿ ಸಂಖ್ಯೆಯನ್ನು ಬರೆಯಿರಿ	ಪ್ರಶ್ನೆಪತ್ರಿಕೆಯ ವಿವರಗಳು ವರ್ಷನ್ ಕೋಡ್ ಮತ್ತು ಕ್ರಮಸಂಖ್ಯೆ

ಮಾಡಿ :

1. ಅಭ್ಯರ್ಥಿಗಳು ನೋಂದಣಿ ಸಂಖ್ಯೆಯನ್ನು ಓ.ಎಂ.ಆರ್. ಉತ್ತರಪತ್ರಿಕೆಯಲ್ಲಿ ಬರೆದು ಅದಕ್ಕೆ ಸಂಬಂಧಿಸಿದ ವೃತ್ತಗಳನ್ನು ಸಂಪೂರ್ಣವಾಗಿ ತುಂಬಿದ್ದೀರೆಂದು ಖಾತ್ರಿಪಡಿಸಿಕೊಳ್ಳಿ.
2. ಕೊಠಡಿ ಮೇಲ್ವಿಚಾರಕರಿಂದ ಈ ಪ್ರಶ್ನೆಪತ್ರಿಕೆಯನ್ನು ನಿಮಗೆ 2ನೇ ಬೆಲ್ ಆದ ನಂತರ, ಅಂದರೆ ಮ. 2.50 ಆದ ನಂತರ ಕೊಡಲಾಗುವುದು.
3. ಪ್ರಶ್ನೆಪತ್ರಿಕೆಯ ವರ್ಷನ್ ಕೋಡ್‌ನ್ನು / ಕ್ರಮಸಂಖ್ಯೆಯನ್ನು ಓ.ಎಂ.ಆರ್. ಉತ್ತರಪತ್ರಿಕೆಯಲ್ಲಿ ಬರೆದು ಅದಕ್ಕೆ ಸಂಬಂಧಿಸಿದ ವೃತ್ತಗಳನ್ನು ಸಂಪೂರ್ಣವಾಗಿ ತುಂಬಬೇಕು.
4. ಓ.ಎಂ.ಆರ್. ಉತ್ತರಪತ್ರಿಕೆಯ ಕೆಳಭಾಗದ ನಿಗದಿತ ಜಾಗದಲ್ಲಿ ಪೂರ್ಣ ಸಹಿ ಮಾಡಬೇಕು.

ಮಾಡಬೇಡಿ :

1. ಓ.ಎಂ.ಆರ್. ಉತ್ತರಪತ್ರಿಕೆಯಲ್ಲಿ ಮುದ್ರಿತವಾಗಿರುವ ಟೈಮಿಂಗ್ ಮಾರ್ಕನ್ನು ತಿದ್ದಬಾರದು / ಹಾಳುಮಾಡಬಾರದು / ಅಳಿಸಬಾರದು.
2. ಮೂರನೇ ಬೆಲ್ ಮ. 3.00 ಕ್ಕೆ ಆಗುತ್ತದೆ. ಅಲ್ಲಿಯವರೆಗೂ,
 - ಪ್ರಶ್ನೆಪತ್ರಿಕೆಯ ಬಲಭಾಗದಲ್ಲಿರುವ ಸೀಲ್ ಅನ್ನು ತೆಗೆಯಬಾರದು.
 - ಪ್ರಶ್ನೆಪತ್ರಿಕೆಯ ಒಳಗಡೆ ಇರುವ ಪ್ರಶ್ನೆಗಳನ್ನು ನೋಡಲು ಪ್ರಯತ್ನಿಸಬಾರದು.
 - ಓ.ಎಂ.ಆರ್. ಉತ್ತರಪತ್ರಿಕೆಯಲ್ಲಿ ಉತ್ತರಿಸಲು ಪ್ರಾರಂಭಿಸಬಾರದು.

ಅಭ್ಯರ್ಥಿಗಳಿಗೆ ಮುಖ್ಯ ಸೂಚನೆಗಳು

1. ಪ್ರಶ್ನೆಪತ್ರಿಕೆಯಲ್ಲಿ ಒಟ್ಟು 100 ಪ್ರಶ್ನೆಗಳಿದ್ದು, ಪ್ರತಿ ಪ್ರಶ್ನೆಗೂ 4 ಬಹು ಆಯ್ಕೆ ಉತ್ತರಗಳು ಇರುತ್ತವೆ.
2. ಮೂರನೇ ಬೆಲ್ ಅಂದರೆ ಮ. 3.00 ರ ನಂತರ ಸೀಲ್/ಪಾಲಿಥಿನ್ ಬ್ಯಾಗ್ ತೆಗೆದು ಈ ಪ್ರಶ್ನೆಪತ್ರಿಕೆ ಪುಸ್ತಿಕೆಯಲ್ಲಿ ಯಾವುದೇ ಪುಟಗಳು ಮುದ್ರಿತವಾಗಿಲ್ಲದೇ ಇರುವುದು ಕಂಡು ಬಂದಲ್ಲಿ ಅಥವಾ ಹರಿದು ಹೋಗಿದ್ದಲ್ಲಿ ಅಥವಾ ಯಾವುದೇ ಐಟಂಗಳು ಬಿಟ್ಟುಹೋಗಿದೆಯೇ ಎಂಬುದನ್ನು ಖಚಿತಪಡಿಸಿಕೊಂಡು, ಈ ರೀತಿ ಆಗಿದ್ದರೆ ಕೂಡಲೇ ಕೊಠಡಿ ಮೇಲ್ವಿಚಾರಕರಿಂದ ಪ್ರಶ್ನೆಪತ್ರಿಕೆಯನ್ನು ಬದಲಾಯಿಸಿಕೊಳ್ಳುವುದು. ನಂತರ ಓ.ಎಂ.ಆರ್. ಉತ್ತರಪತ್ರಿಕೆಯಲ್ಲಿ ಉತ್ತರಿಸಲು ಪ್ರಾರಂಭಿಸುವುದು.
3. ಮುಂದಿನ 90 ನಿಮಿಷಗಳಲ್ಲಿ :
 - ಪ್ರತಿ ಪ್ರಶ್ನೆಯನ್ನು ಎಚ್ಚರಿಕೆಯಿಂದ ಓದಿ.
 - ಪ್ರತಿ ಪ್ರಶ್ನೆಯ ಕೆಳಗೆ ಕೊಟ್ಟಿರುವ ನಾಲ್ಕು ಬಹು ಆಯ್ಕೆಯ ಉತ್ತರಗಳಲ್ಲಿ ಸರಿಯಾದ ಉತ್ತರವನ್ನು ಆಯ್ಕೆ ಮಾಡಿ. ಪ್ರತಿಪ್ರಶ್ನೆಗೆ ಒಂದಕ್ಕಿಂತ ಹೆಚ್ಚು ಉತ್ತರಗಳು ನಿಮ್ಮ ಅರಿವಿಗೆ ಬಂದರೂ ಸಹ ಪ್ರತಿ ಪ್ರಶ್ನೆಗೆ ಯಾವುದೇ ಒಂದು ಸರಿಯಾದ ಉತ್ತರವನ್ನು ಆಯ್ಕೆ ಮಾಡುವುದು.
 - ಪ್ರಶ್ನೆಪತ್ರಿಕೆಯಲ್ಲಿನ ಪ್ರಶ್ನೆಗೆ ಅನುಗುಣವಾಗಿರುವ ಸರಿ ಉತ್ತರವನ್ನು ಓ.ಎಂ.ಆರ್. ಉತ್ತರಪತ್ರಿಕೆಯಲ್ಲಿ ಅದೇ ಕ್ರಮ ಸಂಖ್ಯೆಯ ಮುಂದೆ ನೀಡಿರುವ ಸಂಬಂಧಿಸಿದ ವೃತ್ತವನ್ನು ನೀಲಿ ಅಥವಾ ಕಪ್ಪು ಶಾಯಿಯ ಬಾಲ್ ಪಾಯಿಂಟ್ ಪೆನ್ ನಿಂದ ಸಂಪೂರ್ಣ ತುಂಬುವುದು.

ಓ.ಎಂ.ಆರ್. ಉತ್ತರಪತ್ರಿಕೆಯಲ್ಲಿರುವ ವೃತ್ತಗಳನ್ನು ತುಂಬುವ ಸರಿಯಾದ ವಿಧಾನ : (A) (B) (C) (D)

4. ಈ ಓ.ಎಂ.ಆರ್. ಉತ್ತರಪತ್ರಿಕೆಯನ್ನು ಸ್ಟ್ಯಾನ್ ಮಾಡುವ ಸ್ಟ್ಯಾನ್ ಬಹಳ ಸೂಕ್ಷ್ಮವಾಗಿದ್ದು ಸಣ್ಣ ಗುರುತನ್ನು ಸಹ ದಾಖಲಿಸುತ್ತದೆ. ಆದ್ದರಿಂದ ಓ.ಎಂ.ಆರ್. ಉತ್ತರಪತ್ರಿಕೆಯಲ್ಲಿ ಉತ್ತರಿಸುವಾಗ ಎಚ್ಚರಿಕೆ ವಹಿಸಿ.
5. ಪ್ರಶ್ನೆಪತ್ರಿಕೆಯಲ್ಲಿ ಕೊಟ್ಟಿರುವ ಖಾಲಿ ಜಾಗವನ್ನು ರಫ್ ಕೆಲಸಕ್ಕೆ ಉಪಯೋಗಿಸಿ. ಓ.ಎಂ.ಆರ್. ಉತ್ತರಪತ್ರಿಕೆಯನ್ನು ಇದಕ್ಕೆ ಉಪಯೋಗಿಸಬೇಡಿ.
6. ಕೊನೆಯ ಬೆಲ್ ಅಂದರೆ ಸಂ. 4.30 ಆದ ನಂತರ ಉತ್ತರಿಸುವುದನ್ನು ನಿಲ್ಲಿಸಿ. ನಿಮ್ಮ ಎಡಗೈ ಹೆಬ್ಬರಳ ಗುರುತನ್ನು ನಿಗದಿತ ಜಾಗದಲ್ಲಿ ಹಾಕಿ.
7. ಓ.ಎಂ.ಆರ್. ಉತ್ತರಪತ್ರಿಕೆಯನ್ನು ಕೊಠಡಿ ಮೇಲ್ವಿಚಾರಕರಿಗೆ ಯಥಾಸ್ಥಿತಿಯಲ್ಲಿ ನೀಡಿರಿ.
8. ಕೊಠಡಿ ಮೇಲ್ವಿಚಾರಕರು ಮೇಲ್ವಿಚಾರಕರ ಹಾಳೆಯನ್ನು ಪ್ರತ್ಯೇಕಿಸಿ (KEA copy) ತನ್ನ ವತದಲ್ಲಿ ಇಟ್ಟುಕೊಂಡು ತಳಬದಿಯ ಯಥಾಪ್ರತಿಯನ್ನು (ಅಭ್ಯರ್ಥಿಯ ಪ್ರತಿ) ಅಭ್ಯರ್ಥಿಗಳಿಗೆ ಸ್ವಯಂ ಮೌಲ್ಯಮಾಪನಕ್ಕಾಗಿ ಮನೆಗೆ ಕೊಂಡೊಯ್ಯಲು ಕೊಡುತ್ತಾರೆ.
9. ಉತ್ತರಪತ್ರಿಕೆಯ ನಕಲನ್ನು ಒಂದು ವರ್ಷ ಕಾಲ ಸುರಕ್ಷಿತವಾಗಿ ಇಡಿ.
10. ಕನ್ನಡ ಆವೃತ್ತಿಯ ಪ್ರಶ್ನೆಗಳಲ್ಲಿ ಉತ್ತರಿಸುವ ಅಭ್ಯರ್ಥಿಗಳಿಗೆ ಕನ್ನಡದಲ್ಲಿ ಮುದ್ರಿತವಾಗಿರುವ ಪ್ರಶ್ನೆಗಳ ಬಗ್ಗೆ ಏನಾದರೂ ಸಂದೇಹವಿದ್ದಲ್ಲಿ ಇಂಗ್ಲೀಷ್ ಆವೃತ್ತಿಯ ಪ್ರಶ್ನೆಪತ್ರಿಕೆಯನ್ನು ನೋಡಬಹುದು. ಇಂಗ್ಲೀಷ್ ಆವೃತ್ತಿಯೇ ಅಂತಿಮವಾಗಿರುತ್ತದೆ.